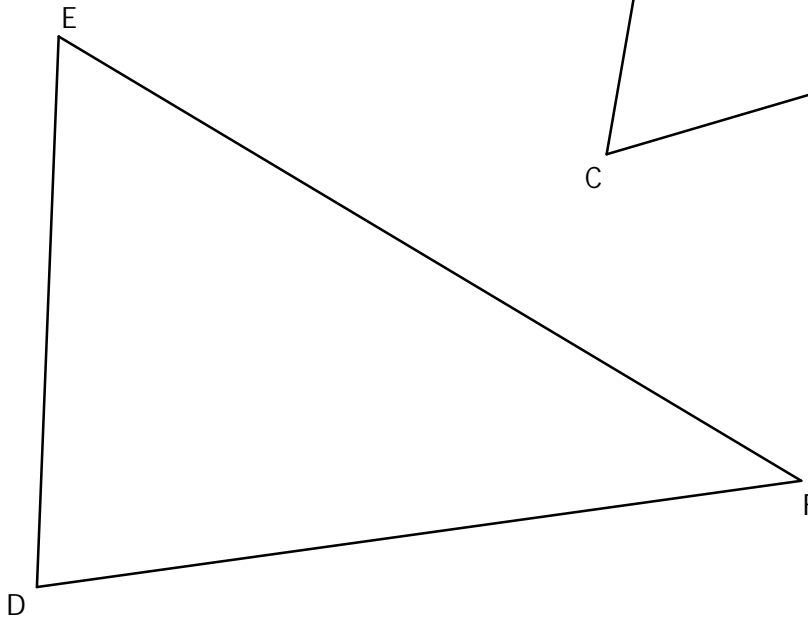
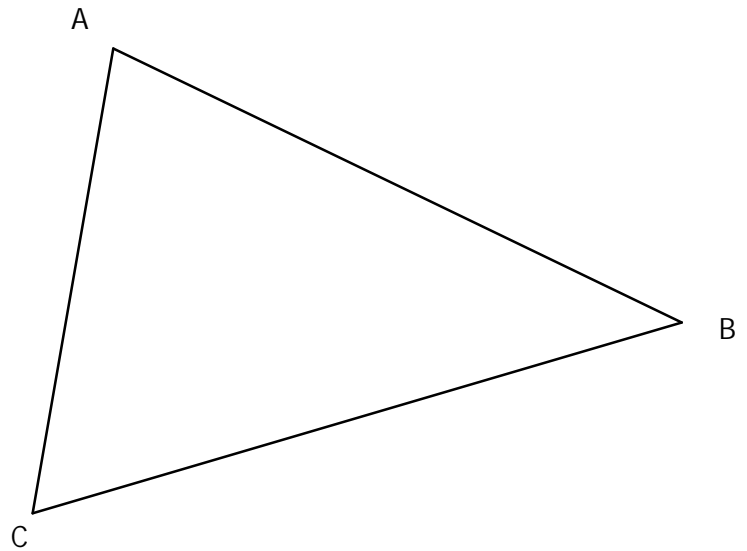


**EXERCICE 5C.1**

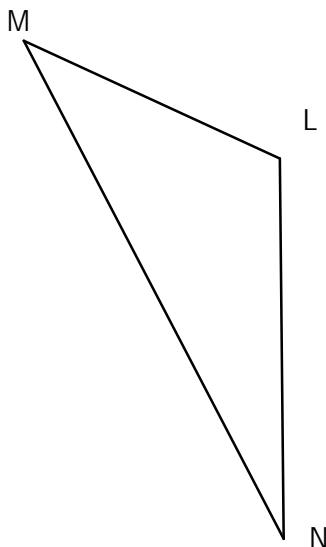
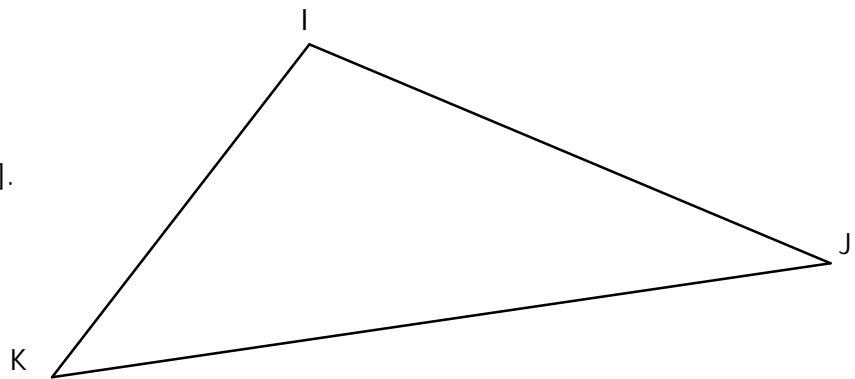
Construire...

... en **rouge** la **médiatrice** de  $[AB]$ ... en **vert** la **hauteur** issue de A.... en **bleu** la **médiane** issue de B.**EXERCICE 5C.2**

Construire...

... en **rouge** la **bissectrice** de  $\hat{D}EF$ .... en **vert** la **hauteur** relative à  $[DE]$ .... en **bleu** la **médiane** relative à  $[EF]$ .**EXERCICE 5C.3**

Construire...

... en **rouge** la **médiatrice** de  $[IK]$ ... en **vert** la **hauteur** issue de J.... en **bleu** la **médiane** relative à  $[IK]$ .**EXERCICE 5C.4**

Construire...

... en **rouge** la **bissectrice** de  $\hat{M}LN$ .... en **vert** la **hauteur** relative à  $[LN]$ .... en **bleu** la **médiane** issue de M.