

FONCTIONS LINEAIRES ET AFFINES

I / Fonctions linéaires

1°) Introduction aux fonctions

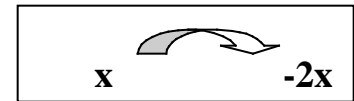
2°) Définition : Soit a un nombre relatif non nul ; on définit une fonction linéaire f , qui, à tout nombre x , associe le nombre ax .

On note $f : x \longmapsto ax$ et $f(x) = ax$

- $f(x)$ s'appelle l'image de x ;
- a s'appelle le coefficient linéaire de la fonction f .

Une fonction linéaire traduit une situation de proportionnalité.

3°) Exemple : $f : x \longmapsto -2x$

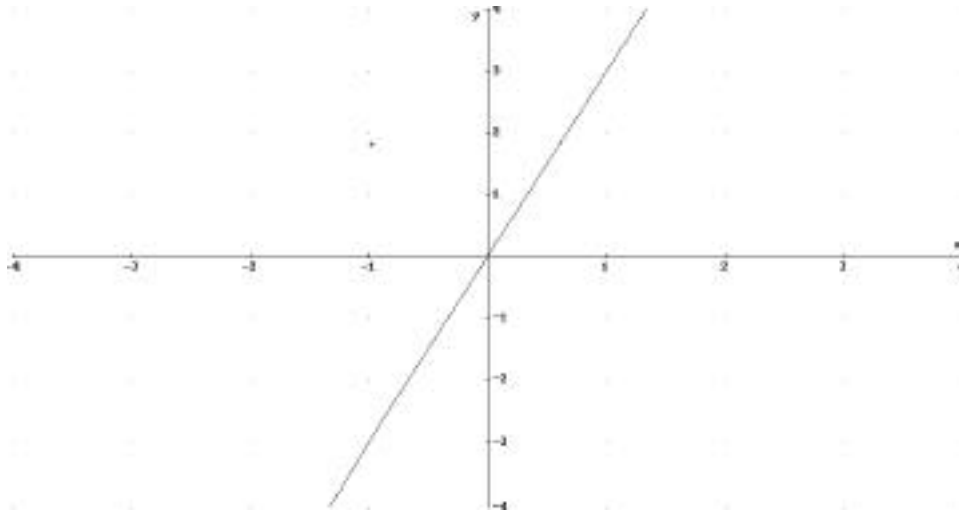


L'image de 3 se note : $f(3)$; elle est égale à $f(3) = -2 \cdot 3 = -6$; -6 est l'image de 3 ; on dit aussi que 3 est l'antécédent de -6 .

4°) Propriété :

La représentation graphique d'une fonction linéaire $f : x \longmapsto ax$ est une droite passant par l'origine et d'équation $y = ax$.

Pour la construire, il suffit de connaître un point (abscisse x) et son image $f(x) = y$ (ordonnée)
exemple oral avec $g(x) = 3x$



Réciproquement, toute droite passant par l'origine et non confondue avec l'axe des ordonnées est la représentation graphique d'une fonction linéaire.

II / Fonction affine

1°) Définition : Etant donnés deux nombres a et b , on définit une fonction affine f , qui à tout x , associe le nombre $ax + b$.
l'image de x se note $f(x) = ax + b$;

On note $f : x \longmapsto ax + b$

a s'appelle le coefficient directeur et b l'ordonnée à l'origine.

2°) Exemple :

$$g : x \longmapsto 3x - 2$$

$$\text{Image de } 1 : g(1) = 3 \cdot 1 - 2 = 1$$

$$\text{Image de } (-2) : g(-2) = -8$$

Nombre ayant pour image 2 : il faut résoudre $3x - 2 = 2$ d'où $x = \frac{4}{3}$.

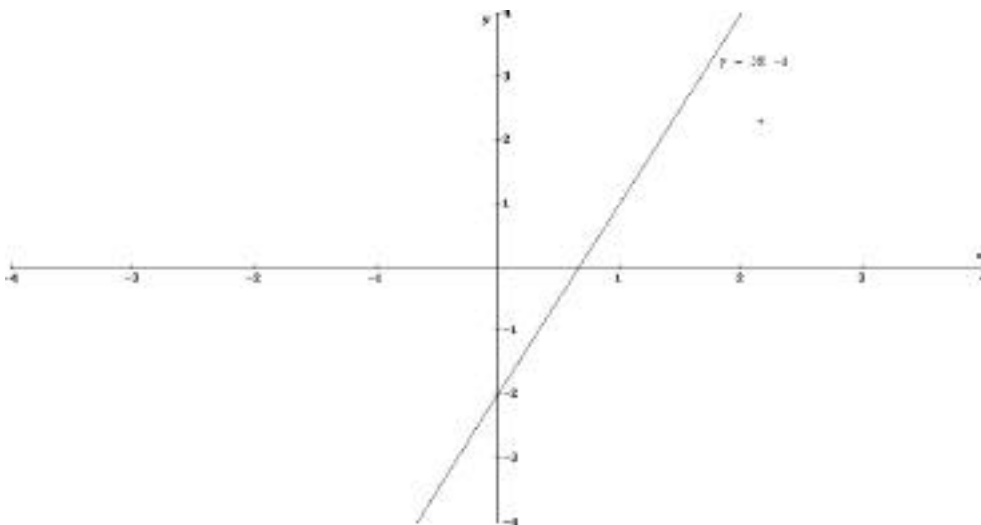
3°) Propriété :

La représentation graphique d'une fonction affine $f : x \longmapsto ax + b$ est une droite d'équation $y = ax + b$

Pour la construire, il suffit de connaître deux points (abscisse x) et leur image $f(x) = y$ (ordonnée)

$$g : x \longmapsto 3x - 2$$

A(1 ;1) et B(0 ; -2) par exemple



Pour savoir si un point appartient à une droite, il suffit de remplacer x et y par les coordonnées du point et de vérifier si l'égalité est vraie.

Ainsi si la droite a pour équation $y = 2x + 1$, le point R(1 ;3) appartient à cette droite car $2 \cdot 1 + 1 = 3$;

Le point S(-2 ; -5) non car $2 \cdot (-2) + 1 \neq -5$

III / Détermination graphique d'une fonction affine

a) Calcul d'un coefficient directeur

Connaissant deux points $A(x_A ; y_A)$ et $B(x_B ; y_B)$ situés sur une droite, on peut déterminer le coefficient directeur de cette droite grâce à la formule :

$$a = \frac{y_B - y_A}{x_B - x_A}$$

faire la preuve de cette formule.

Exemple : R(1 ;3) et S(-2 ; -5)

$$a = \frac{-5 - 3}{-2 - 1} = \frac{8}{3} \quad \text{donc (AB) est de la forme } y = \frac{8}{3}x + b ;$$

l'ordonnée à l'origine peut soit se lire graphiquement, soit se calculer en remplaçant x et y par les coordonnées d'un des deux points.

b) Intersection de deux représentations graphiques

Soit $f : x \mapsto -x + 5$ et $g : x \mapsto 4x - 2$

Pour déterminer par le calcul les coordonnées du point d'intersection, il suffit d'écrire l'égalité des images :

$$f(x) = g(x) \quad \text{donc} \quad -x + 5 = 4x - 2 \quad \text{d'où} \quad x = \frac{7}{5}$$

Pour y, il suffit de remplacer : $y = -\frac{7}{5} + 5 = \frac{18}{5}$ $M\left(\frac{7}{5}; \frac{18}{5}\right)$ est le point d'intersection.

IV / Pourcentages et fonctions

1°) Activité

2°) Propriétés :

Augmenter de x %, c'est multiplier par $1 + \frac{x}{100}$;

Diminuer de x %, c'est multiplier par $1 - \frac{x}{100}$.

Exemples :

- Augmenter de 8%, c'est multiplier par 1,08 ; multiplier par 0,77 c'est appliquer une baisse de 23%.

exercices d'application.