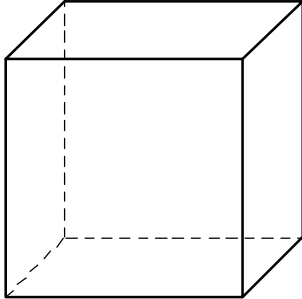


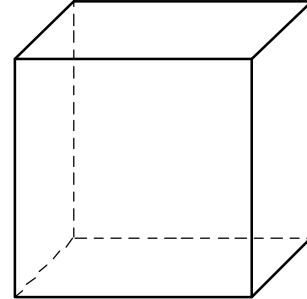
Savoirs et savoir-faire testés dans cette évaluation :

TG3 11		TG3 12		TG3 13		TG3 14	
TG3 15		TG3 16		TG3 17		TG3 18	

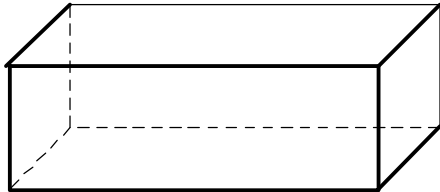
Représente, en rouge, la section :



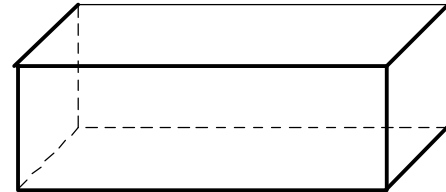
Du cube par un plan parallèle à une face



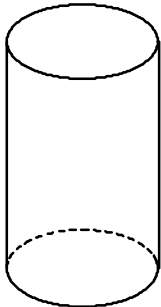
Du cube par un plan parallèle à une arête



Du pavé droit par un plan parallèle à une face



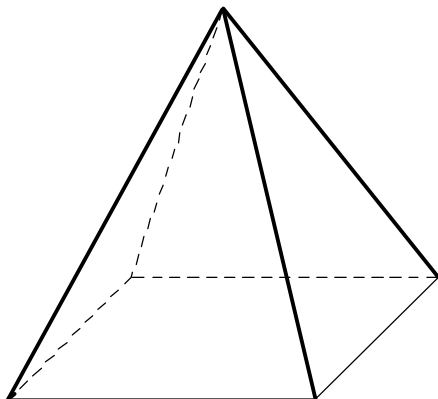
Du pavé droit par un plan parallèle à une arête



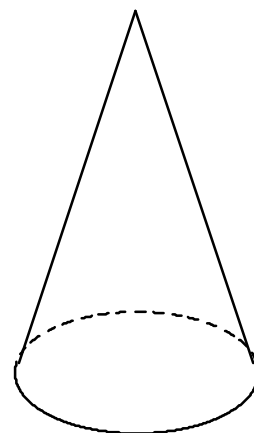
Du cylindre par un plan parallèle à son axe



Du cylindre par un plan perpendiculaire à son axe



De la pyramide par un plan parallèle à sa base



Du cône de révolution par un plan parallèle sa base