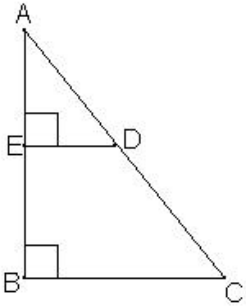
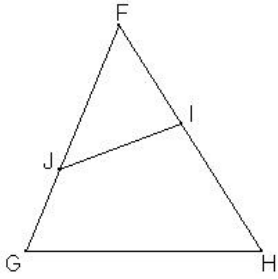
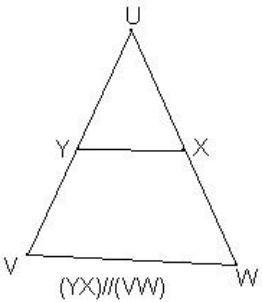
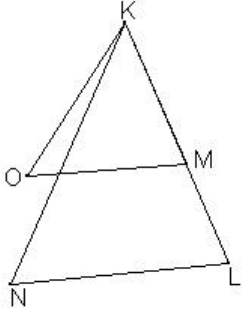
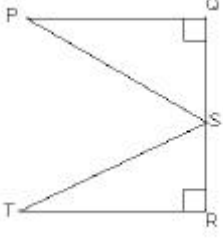
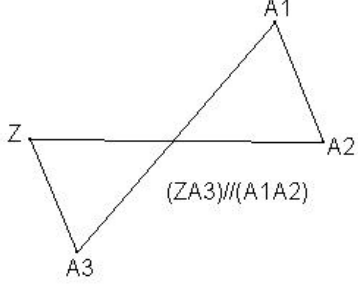


**EVALUATION 01 : ( 3<sup>ème</sup> )**

**Savoirs et savoir-faire testés dans cette évaluation :**

<b>TG2 11</b>		<b>TG2 12</b>			
---------------	--	---------------	--	--	--

		
<p>Les triangles ci-dessus sont-ils dans la configuration de Thalès ?                  OUI    NON                  Si oui, donne l'égalité des trois quotients qui en découle :</p>	<p>Les triangles ci-dessus sont-ils dans la configuration de Thalès ?                  OUI    NON                  Si oui, donne l'égalité des trois quotients qui en découle :</p>	<p>Les triangles ci-dessus sont-ils dans la configuration de Thalès ?                  OUI    NON                  Si oui, donne l'égalité des trois quotients qui en découle :</p>
<p>(OM)//(NL)</p> 		
<p>Les triangles ci-dessus sont-ils dans la configuration de Thalès ?                  OUI    NON                  Si oui, donne l'égalité des trois quotients qui en découle :</p>	<p>Les triangles ci-dessus sont-ils dans la configuration de Thalès ?                  OUI    NON                  Si oui, donne l'égalité des trois quotients qui en découle :</p>	<p>Les triangles ci-dessus sont-ils dans la configuration de Thalès ?                  OUI    NON                  Si oui, donne l'égalité des trois quotients qui en découle :</p>