

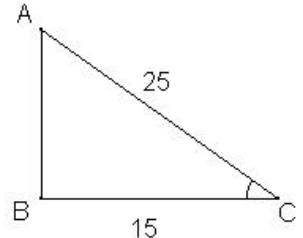
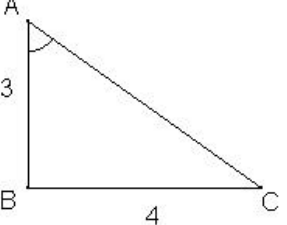
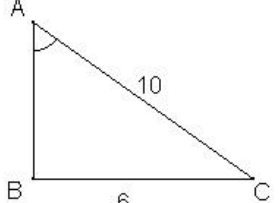
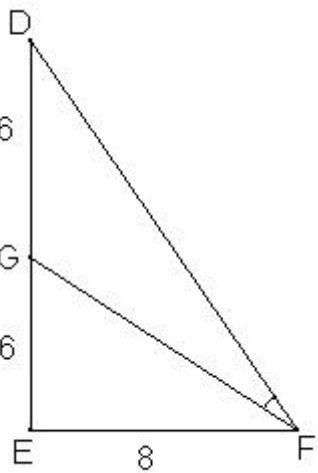
LA TRIGONOMETRIE (Déf et Form)

					B	A	R	E1	E2	E3	N/3		
T	G	1	1	6	Savoir laquelle des formules utiliser								

LA TRIGONOMETRIE (Calculs)

					B	A	R	E1	E2	E3	N/3		
T	G	1	2	1	Calculer un angle connaissant cos, sin ou tan								
T	G	1	2	3	Faire des calculs dans une situation plus complexe								

Calcule la mesure de l'angle tracé sur les figures :

	
	
	
 <p>(DE) ⊥ (EF)</p>	

