


**Contrôle écrit 3.7      jeudi 29 novembre 2001**

**1°) Complète le tableau ci dessous**

	<b>Côté adjacent de l'angle A</b>	
	<b>Côté opposé de l'angle A</b>	
	<b>Côté adjacent de l'angle C</b>	
	<b>Côté adjacent de l'angle C</b>	
	<b>Hypoténuse du triangle</b>	

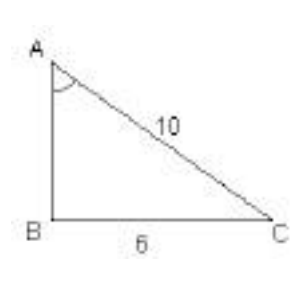
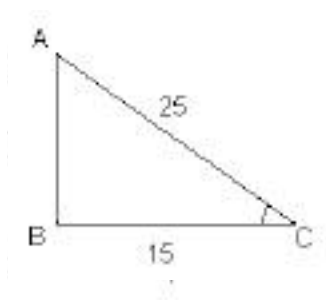
**2°) Donne les trois formules du cours :**

**Cos (U) =**

**Sin (U) =**

**Tan (U) =**

**3°) Calcule la mesure de l'angle tracé sur les 2 figures :**



**4°) Calcule EF dans les 2 figures ci-dessous**