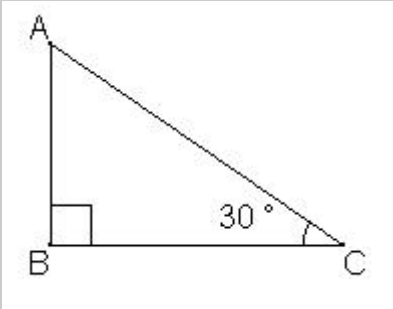
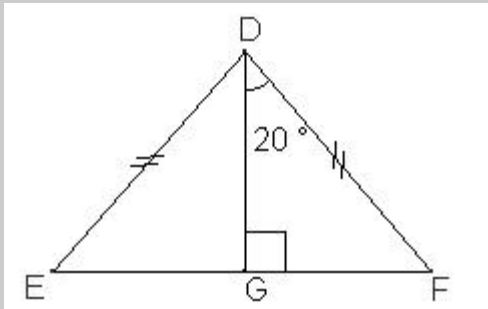


EVALUATION 010 : (4^{ème})

Savoirs et savoir-faire testés dans cette évaluation :

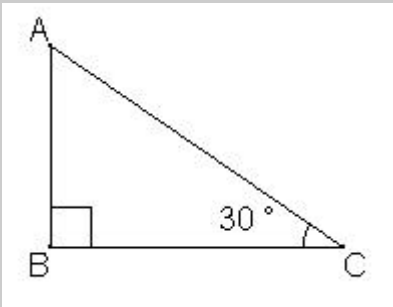
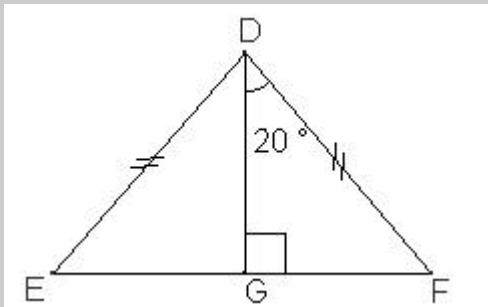
| | | | | | | |
|--------|--|--|--|--|--|--|
| TG1 21 | | | | | | |
|--------|--|--|--|--|--|--|

| | |
|---|--|
| <p>Calcule la mesure de l'angle \hat{BAC}</p> | <p>Calcule la mesure des angles : \hat{DFE} \hat{GDE} \hat{DGE} \hat{DEG}</p> |
|  |  |

EVALUATION 010 : (4^{ème})

Savoirs et savoir-faire testés dans cette évaluation :

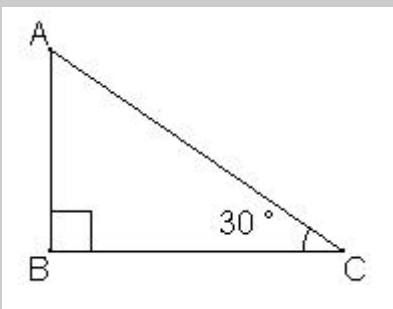
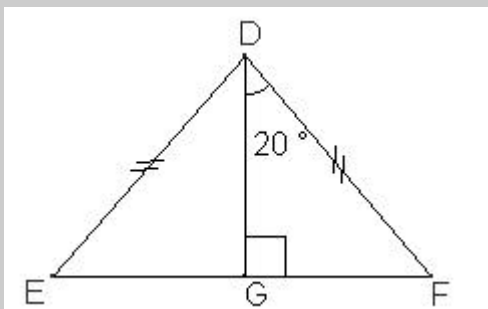
| | | | | | | |
|--------|--|--|--|--|--|--|
| TG1 21 | | | | | | |
|--------|--|--|--|--|--|--|

| | |
|---|--|
| <p>Calcule la mesure de l'angle \hat{BAC}</p> | <p>Calcule la mesure des angles : \hat{DFE} \hat{GDE} \hat{DGE} \hat{DEG}</p> |
|  |  |

EVALUATION 010 : (4^{ème})

Savoirs et savoir-faire testés dans cette évaluation :

| | | | | | | |
|--------|--|--|--|--|--|--|
| TG1 21 | | | | | | |
|--------|--|--|--|--|--|--|

| | |
|---|--|
| <p>Calcule la mesure de l'angle \hat{BAC}</p> | <p>Calcule la mesure des angles : \hat{DFE} \hat{GDE} \hat{DGE} \hat{DEG}</p> |
|  |  |

