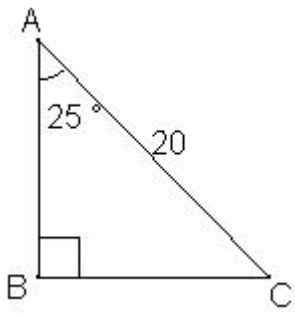
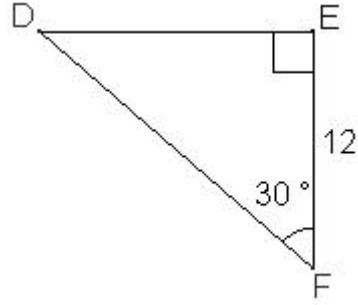
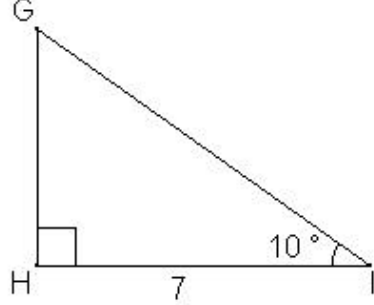


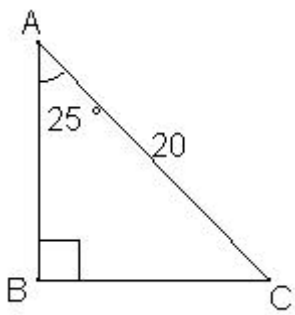
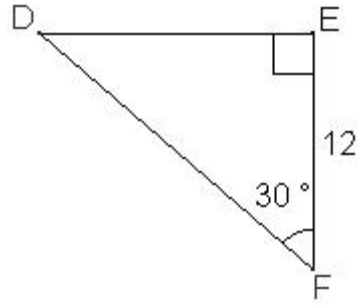
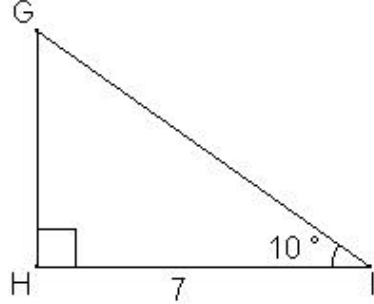
EVALUATION 14 : (4^{ème})

Savoirs et savoir-faire testés dans cette évaluation :

TG1 28		
Calcule la longueur du côté AB.	Calcule la longueur du côté DF.	Calcule la longueur du côté GH.
		

EVALUATION 14 : (4^{ème})

Savoirs et savoir-faire testés dans cette évaluation :

TG1 28		
Calcule la longueur du côté AB.	Calcule la longueur du côté DF.	Calcule la longueur du côté GH.
		

EVALUATION 14 : (4^{ème})

Savoirs et savoir-faire testés dans cette évaluation :

TG1 28		
Calcule la longueur du côté AB.	Calcule la longueur du côté DF.	Calcule la longueur du côté GH.
