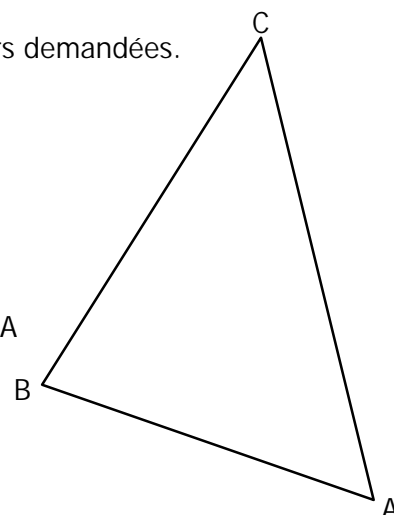
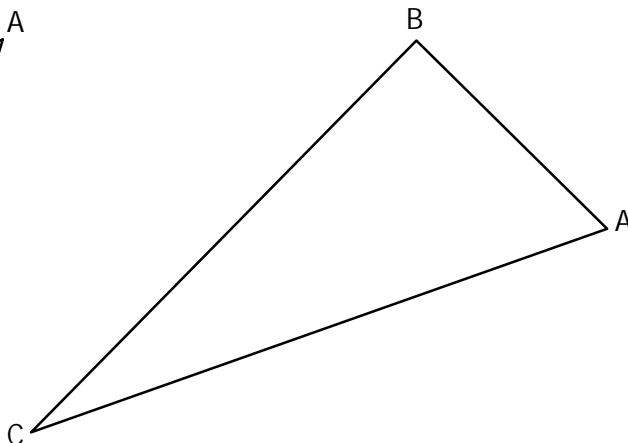
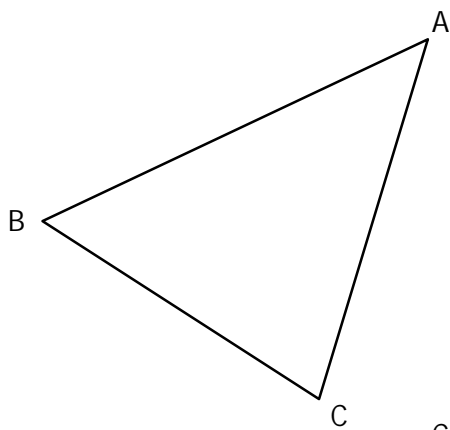


ACTIVITE 5.1

Pour chacun de ces triangles ABC :

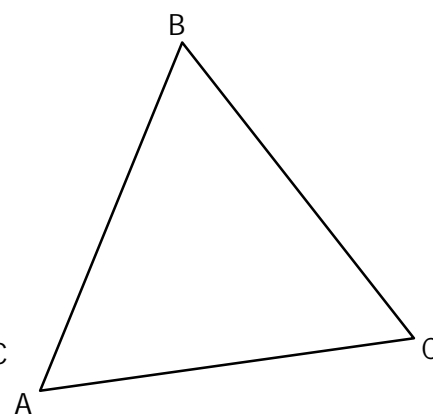
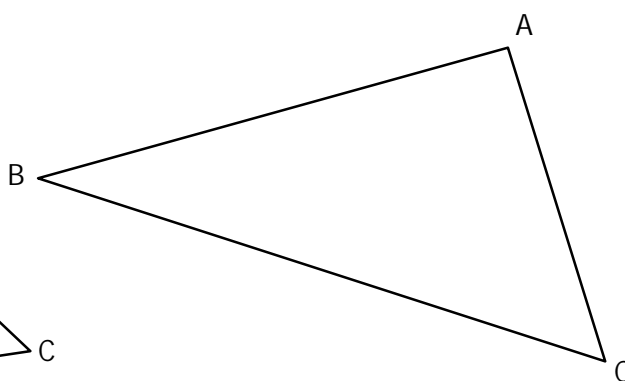
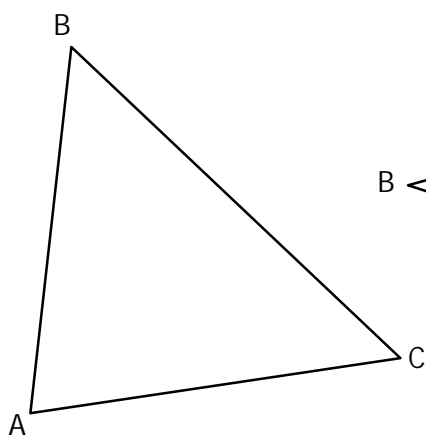
- a. Placer les points A', B' et C' milieux respectifs de [BC], [AC] et [AB].
- b. Tracer ses 3 médianes puis placer le **centre de gravité** G.
- c. Compléter le tableau en mesurant avec la règle (au mm près) les longueurs demandées.
- d. Effectuer à la machine (en arrondissant au 1/100^{ème}) les calculs.



A'G =	A'A =	A'G/A'A =
B'G =	B'B =	B'G/B'B =
C'G =	C'C =	C'G/C'C =

A'G =	A'A =	A'G/A'A =
B'G =	B'B =	B'G/B'B =
C'G =	C'C =	C'G/C'C =

A'G =	A'A =	A'G/A'A =
B'G =	B'B =	B'G/B'B =
C'G =	C'C =	C'G/C'C =



A'G =	A'A =	A'G/A'A =
B'G =	B'B =	B'G/B'B =
C'G =	C'C =	C'G/C'C =

A'G =	A'A =	A'G/A'A =
B'G =	B'B =	B'G/B'B =
C'G =	C'C =	C'G/C'C =

A'G =	A'A =	A'G/A'A =
B'G =	B'B =	B'G/B'B =
C'G =	C'C =	C'G/C'C =

ACTIVITE 5.2

Dans chacun de ces triangles, une médiane est déjà tracée. Placer le centre de gravité de ce triangle **sans tracer d'autre médiane**.

