

NOM :

Note :

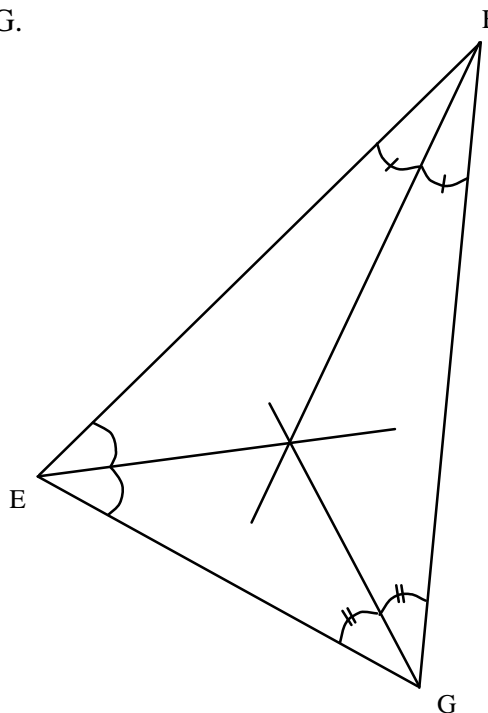
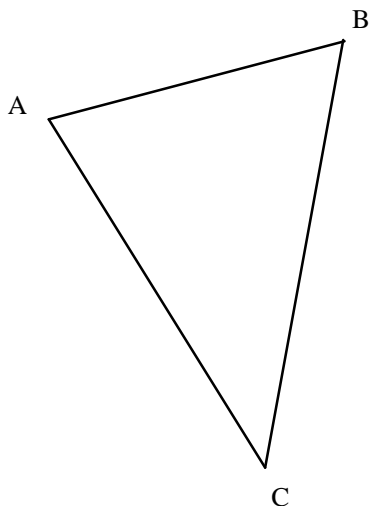
**4° - Interrogation de Mathématiques  
(Droites remarquables d'un triangle, 15 min)**

**1/ Donner les définitions des droites suivantes dans un triangle.**

- a/ Définition de la bissectrice.
- b/ Définition de la hauteur.
- c/ Définition de la médiane.
- d/ Définition de la médiatrice.

**2/ Effectuer les tracés suivants.**

- a/ Trace le cercle circonscrit au triangle ABC.
- b/ Trace le cercle inscrit dans le triangle EFG.



**3/ Réciter les propriétés.**

Ecris les deux propriétés correspondant aux figures 1 et 2 suivantes sous la forme :  
« Dans un triangle, les trois ..... sont ..... en un point appelé ..... »

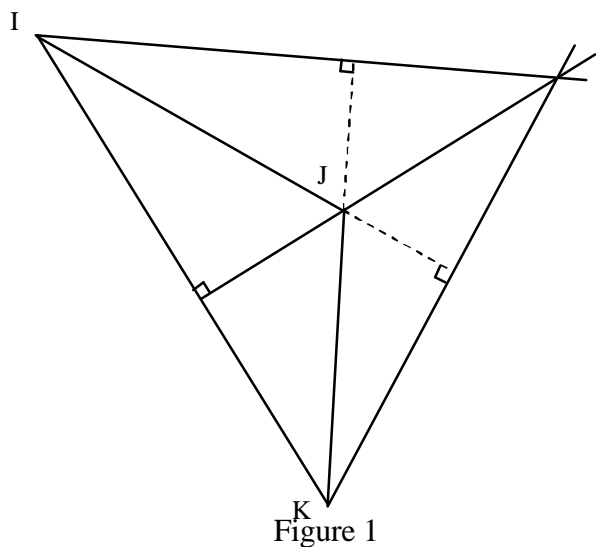


Figure 1

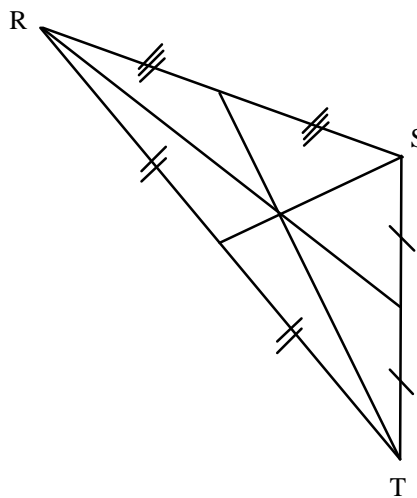


Figure 2

