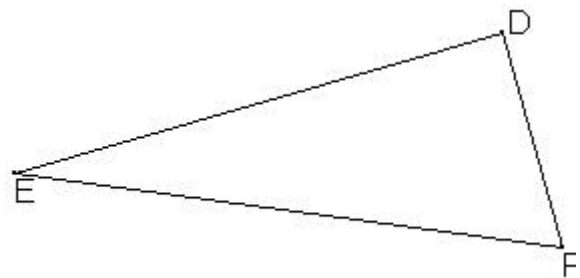
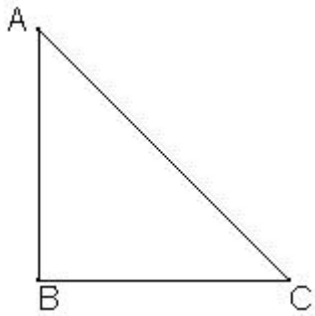


EVALUATION 06 : (4^{ème})

Savoirs et savoir-faire testés dans cette évaluation :

TG1 12							
---------------	--	--	--	--	--	--	--

Sans construire les médiatrices, trace le cercle circonscrit des triangles rectangles.

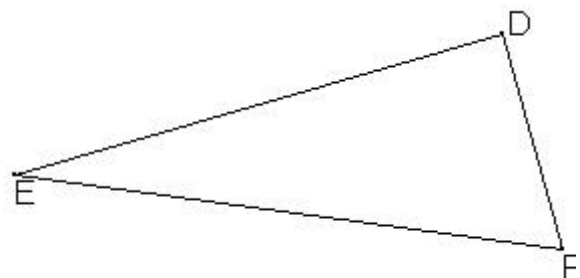
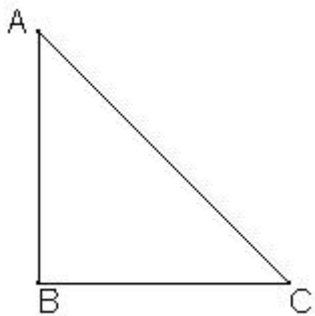


EVALUATION 06 : (4^{ème})

Savoirs et savoir-faire testés dans cette évaluation :

TG1 12							
---------------	--	--	--	--	--	--	--

Sans construire les médiatrices, trace le cercle circonscrit des triangles rectangles.



EVALUATION 06 : (4^{ème})

Savoirs et savoir-faire testés dans cette évaluation :

TG1 12							
---------------	--	--	--	--	--	--	--

Sans construire les médiatrices, trace le cercle circonscrit des triangles rectangles.

