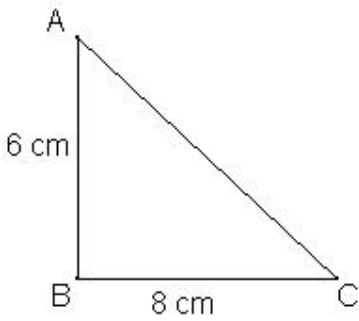
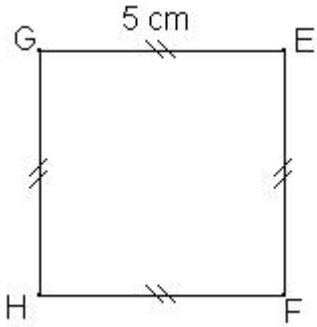
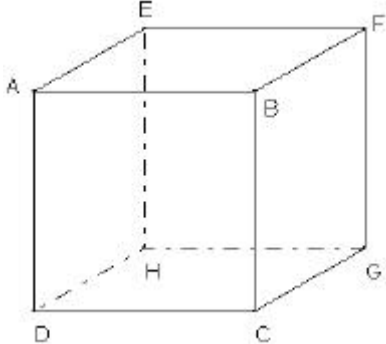


**EVALUATION 02 : ( 4<sup>ème</sup> )**

**Savoirs et savoir-faire testés dans cette évaluation :**

<b>TG1 03</b>		<b>TG1 07</b>				
---------------	--	---------------	--	--	--	--

<p>ABC est un triangle rectangle en B. Calcule la valeur exacte de la longueur AC.</p>	<p>GEFH est un carré. Calcule la valeur approchée à 0,1 près par défaut de la longueur des diagonales.</p>	<p>ABCDEFGH est un cube. AB = 4 cm. Calcule la valeur exacte de la longueur DG puis la valeur approchée à 0,01 près par excès de la longueur DF.</p>
		

**EVALUATION 02 : ( 4<sup>ème</sup> )**

**Savoirs et savoir-faire testés dans cette évaluation :**

<b>TG1 03</b>		<b>TG1 07</b>				
---------------	--	---------------	--	--	--	--

<p>ABC est un triangle rectangle en B. Calcule la valeur exacte de la longueur AC.</p>	<p>GEFH est un carré. Calcule la valeur approchée à 0,1 près par défaut de la longueur des diagonales.</p>	<p>ABCDEFGH est un cube. AB = 4 cm. Calcule la valeur exacte de la longueurs DG puis la valeur approchée à 0,01 près par excès de la longueur DF.</p>
