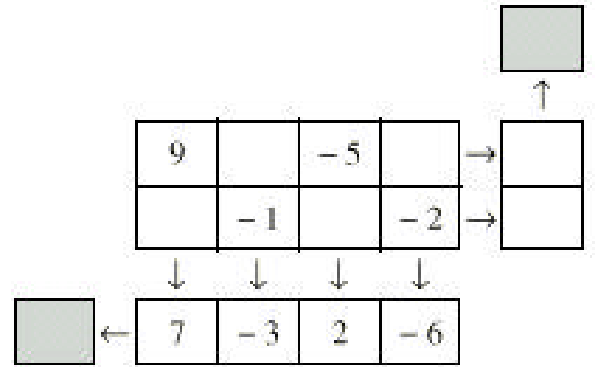
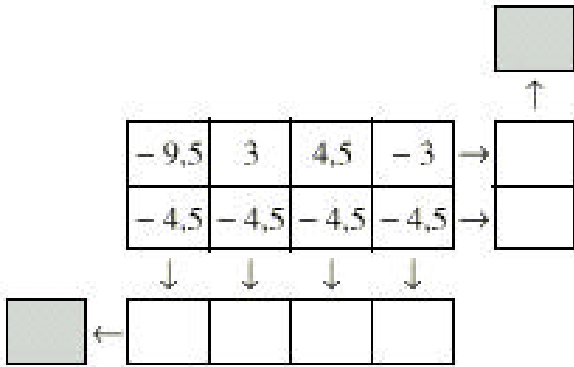


Nom, prénom :

Classe de 4<sup>ème</sup>

**CONTRÔLE DE MATHÉMATIQUES**

Complète les tableaux suivants selon le principe : " l'extrémité de chaque flèche indique la somme de la ligne ou de la colonne correspondante "



Complète avec le nombre relatif qui convient :

$-3 + ? = -5$

$-6 ? ? = -12$

$? + 5 - (-1) = -3$

$? - 4 = -5,5$

$-2 - ? = 4$

$-3 ? ? ? (-1) = -21$

$2,2 + ? = 0,4$

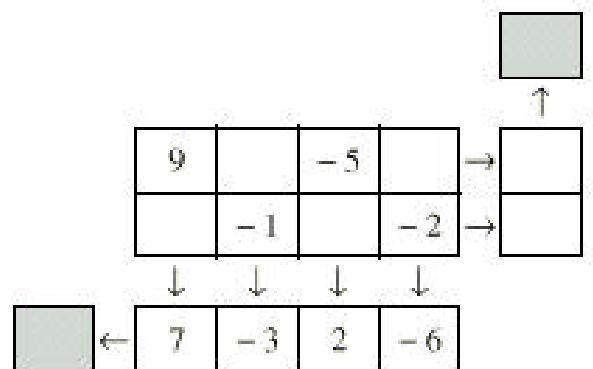
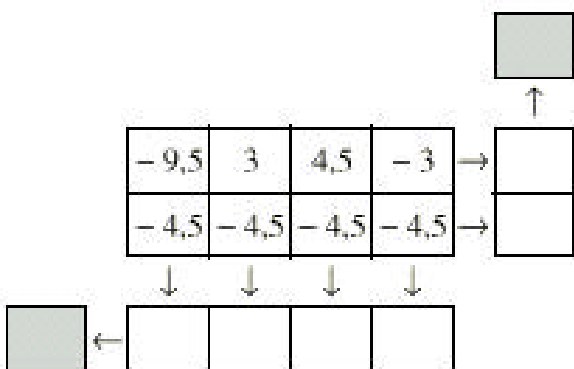
$\frac{?}{-5} = 40$

Nom, prénom :

Classe de 4<sup>ème</sup>

**CONTRÔLE DE MATHÉMATIQUES**

Complète les tableaux suivants selon le principe : " l'extrémité de chaque flèche indique la somme de la ligne ou de la colonne correspondante "



Complète avec le nombre relatif qui convient :

$-3 + ? = -5$

$-6 ? ? = -12$

$? + 5 - (-1) = -3$

$? - 4 = -5,5$

$-2 - ? = 4$

$-3 ? ? ? (-1) = -21$

$2,2 + ? = 0,4$

$\frac{?}{-5} = 40$