

Reconnaître des angles particuliers

1. Des angles adjacents :

Parmi les figures suivantes indique celles dont les angles marqués ne sont pas des angles adjacents et explique pourquoi.

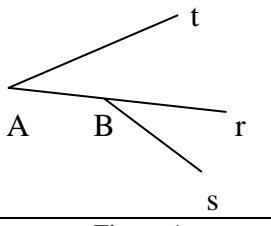
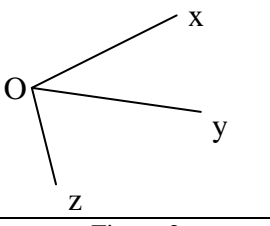
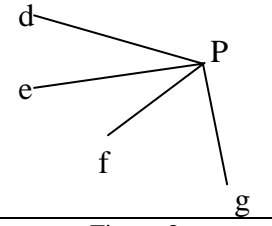
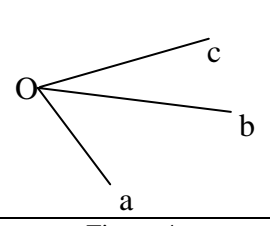
			
Figure 1	Figure 2	Figure 3	Figure 4

Figure ...: les angleset.....ne sont pas adjacents car.....

.....

Figure ...: les angleset.....ne sont pas adjacents car

.....

Figure ...: les angleset.....ne sont pas adjacents car

.....

2. Des angles opposés par le sommet :

Parmi les figures suivantes indique celle qui représente des angles opposés par le sommet et explique pourquoi ce n'est pas le cas des 3 autres figures.

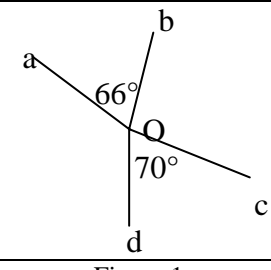
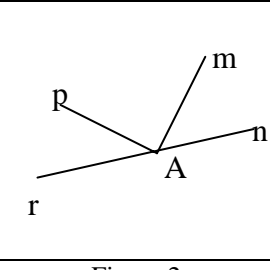
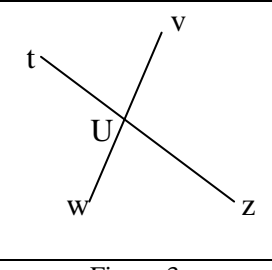
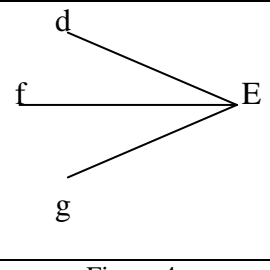
			
Figure 1	Figure 2	Figure 3	Figure 4

Figure ...: les angleset.....ne sont pas opposés par le sommet car.....

.....

Figure ...: les angleset.....ne sont pas opposés par le sommet car

.....

Figure ...: les angleset.....ne sont pas opposés par le sommet car

.....