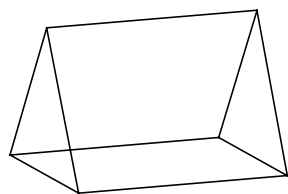
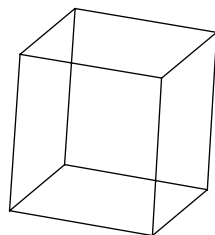


Compter les faces, sommets et arêtes.

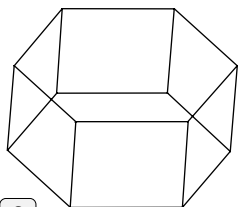
1) Observer les solides dessinés ci-dessous et compléter le tableau :



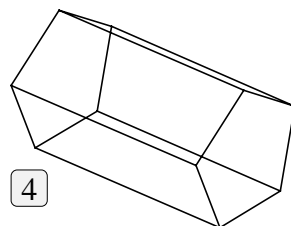
1



2



3



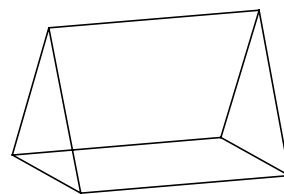
4

Solide	Nombre de faces	Nombre de sommets	Nombre d'arêtes
1			
2			
3			
4			

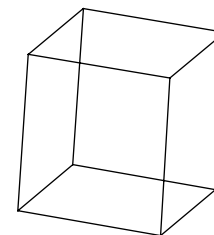
2) Ces solides ont des caractéristiques communes : lesquelles ?

Compter les faces, sommets et arêtes.

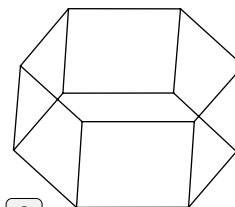
1) Observer les solides dessinés ci-dessous et compléter le tableau :



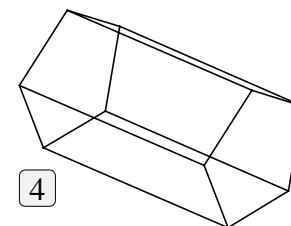
1



2



3



4

Solide	Nombre de faces	Nombre de sommets	Nombre d'arêtes
1			
2			
3			
4			

2) Ces solides ont des caractéristiques communes : lesquelles ?