

Exercices sur la recherche d'éléments de symétrie.

Exercice n° :

Cite les lettres de l'alphabet qui admettent un centre de symétrie (et indique par un point vert ce centre).

Exercice n° :

Indique si les lettres suivantes admettent ou non un centre et des axes de symétrie:

M A T H S

Exercice n° :

Pour les figures suivantes :

- a) Préciser si elles possèdent un centre de symétrie si oui le tracer en rouge.
- b) Préciser si elles possèdent un ou plusieurs axes de symétrie, si oui les tracer en vert.

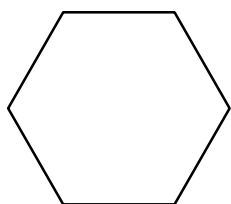


figure 1

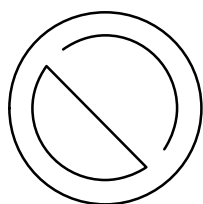


figure 2




figure 3

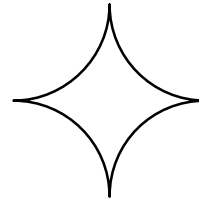


figure 4




Figure 5




figure 6

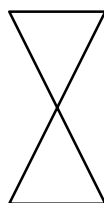


figure 7

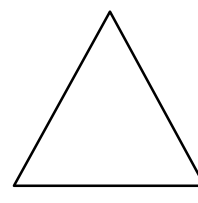


figure 8

Exercice n° :

Les dessins suivants possèdent-ils un ou plusieurs axes de symétrie ? si oui les tracer en rouge.

Les dessins suivants possèdent-ils un centre de symétrie ? si oui le tracer en vert.

