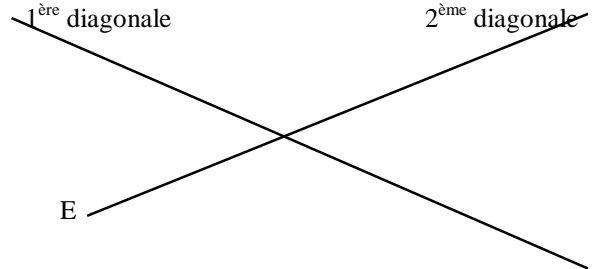


NOM Prénom :

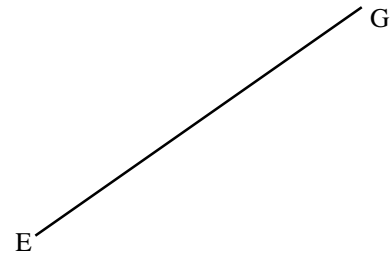
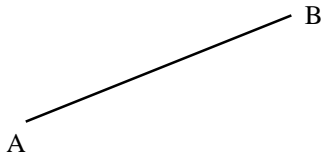
Date :

MATHEMATIQUES

✍ Termine le rectangle **ABCD** à l'équerre et le rectangle **EFGH** au compas.



✍ Termine le carré **ABCD** à l'équerre et le carré **EFGH** au compas.

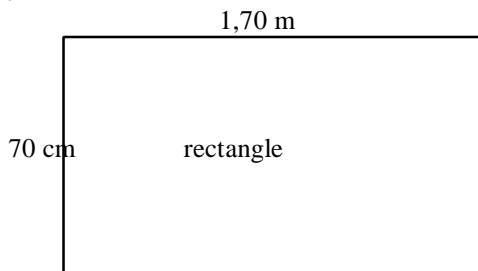


✍ Complète (tu peux t'aider d'un tableau de conversion)

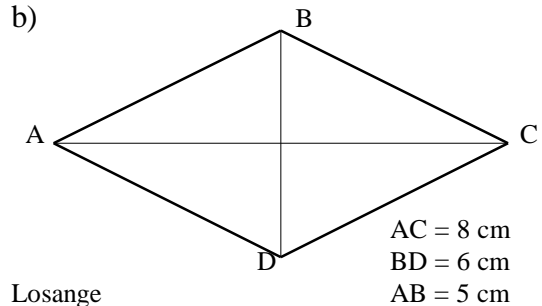
$17\ 150\text{ cm}^2 =$	m^2	;	$0,0015\text{ m}^2 =$	cm^2
$4236\text{ dm}^2 =$	m^2	;	$0,00171\text{ km}^2 =$	m^2
$0,137\text{ ha} =$	m^2	;	$3125\text{ m}^2 =$	a

✍ Calcule au dos de la feuille le **périmètre** et l'**aire** des figures ci-dessous :

a)



b)



✍ Quelle est le périmètre d'un carré dont l'aire vaut 81 cm^2 ?