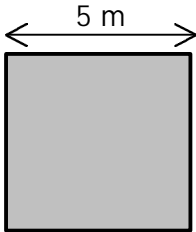
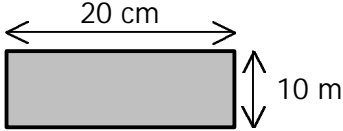
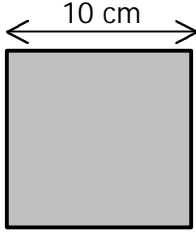
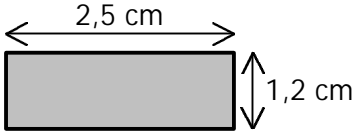
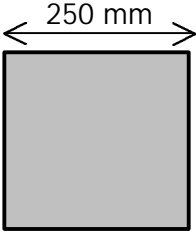
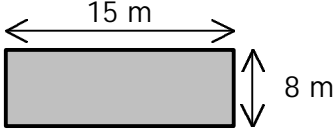


EVALUATION : (6^{ème})

Savoirs et savoir-faire testés dans cette évaluation :

TG5 14		TG5 15		TG5 17			
--------	--	--------	--	--------	--	--	--

Pour chacune des figures ci-dessous, calcul le périmètre en utilisant l'une des formules de la leçon.

		
Formule : Calcul :	Formule : Calcul :	Formule : Calcul :
		
Formule : Calcul :	Formule : Calcul :	Formule : Calcul :