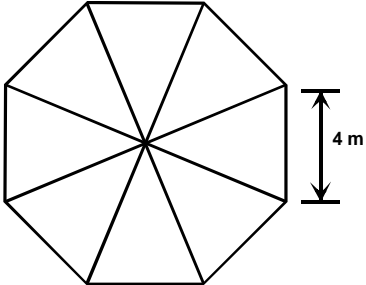
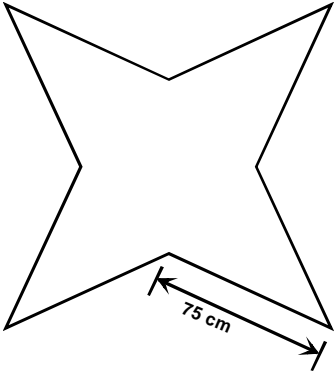
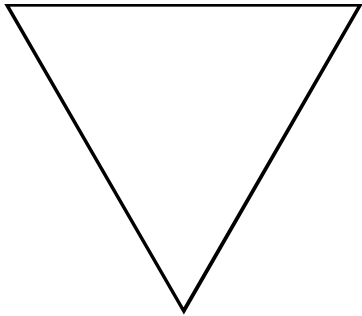
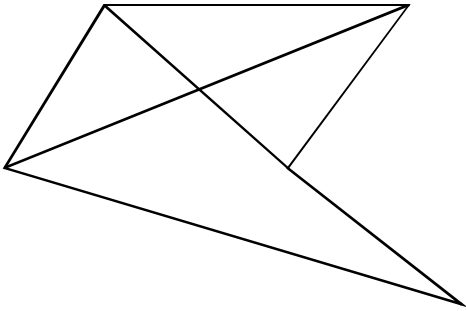
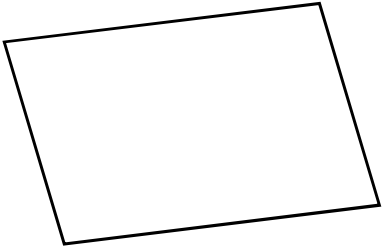
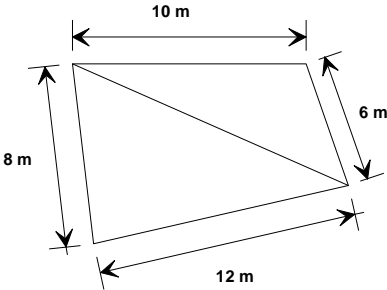


**EVALUATION : (6<sup>ème</sup> )**

**Savoirs et savoir-faire testés dans cette évaluation :**

TG5 11		TG5 12		TG5 13		TG5 17	
--------	--	--------	--	--------	--	--------	--

**Repasse en rouge le périmètre de chacune des figures et écris la longueur du périmètre dans la case en dessous.**

	
<p><b>Périmètre =</b></p>	<p><b>Périmètre =</b></p>
	
<p><b>Périmètre =</b></p>	<p><b>Périmètre =</b></p>
	
<p><b>Périmètre =</b></p>	<p><b>Périmètre =</b></p>