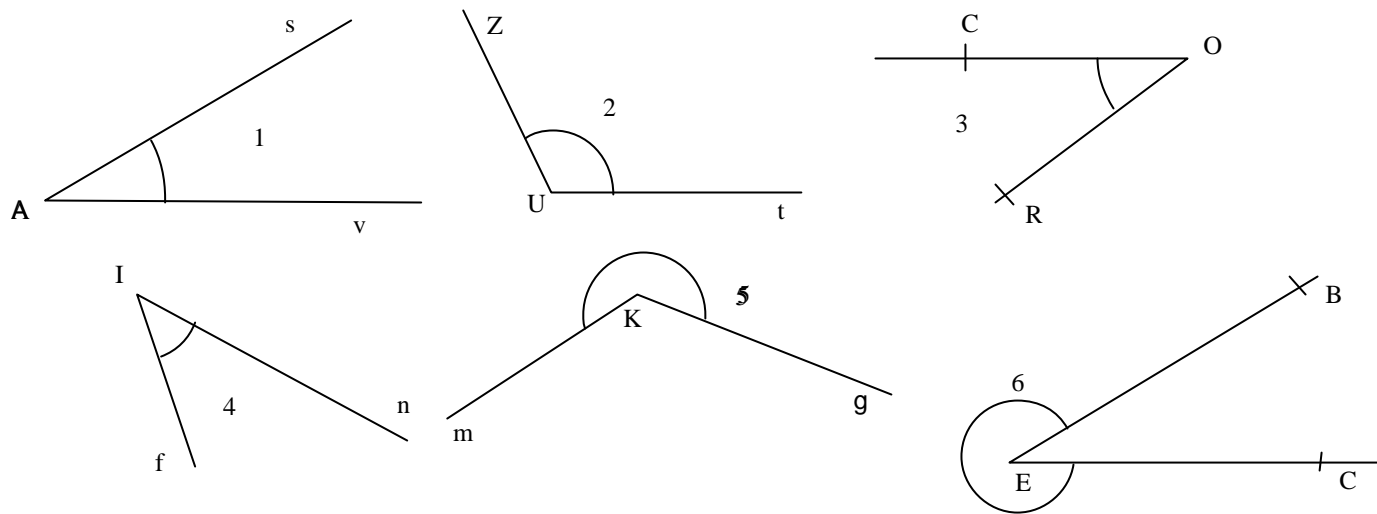


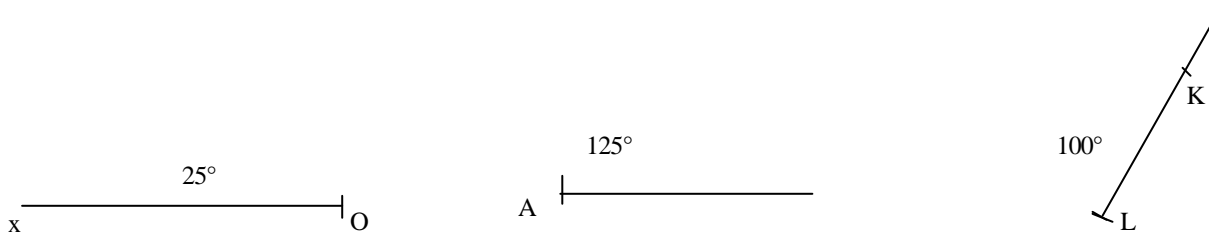
MATHEMATIQUES

❶ Voici des angles. Complète le tableau (il peut y avoir des cases vides)

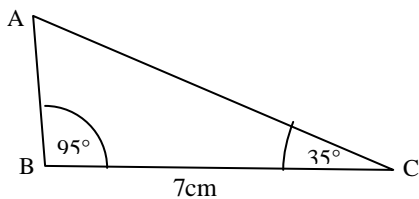


	1	2	3	4	5	6
Nom de l'angle						
Saillant ou rentrant						
Aigu ou obtus						
mesure en degrés						

❷ Construis les angles suivants : \widehat{xOy} de 25° , \widehat{zAt} de 125° , \widehat{kLm} de 100°



❸ Construis au dos de la feuille le triangle suivant (volontairement faux)



Mesure l'angle \widehat{BAC} sur ta figure
mes \widehat{BAC} =

❹ Trace les bissectrices des angles \widehat{xOy} et \widehat{yOz} . Qu'ont-elles de particulier ?

