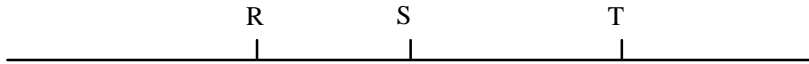


**Exercice 1 :**

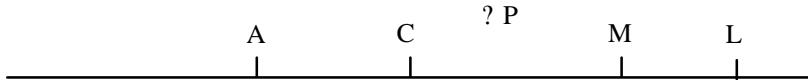
Recopie quatre fois le dessin ci-dessous au crayon de bois :



- 1) Repasse en rouge [SR] sur le premier dessin.
- 2) Repasse en bleu [RT] sur le second dessin.
- 3) Repasse en vert (TS) sur le troisième dessin.
- 4) Repasse en noir [ST] sur le quatrième dessin.

**Exercice 2 :**

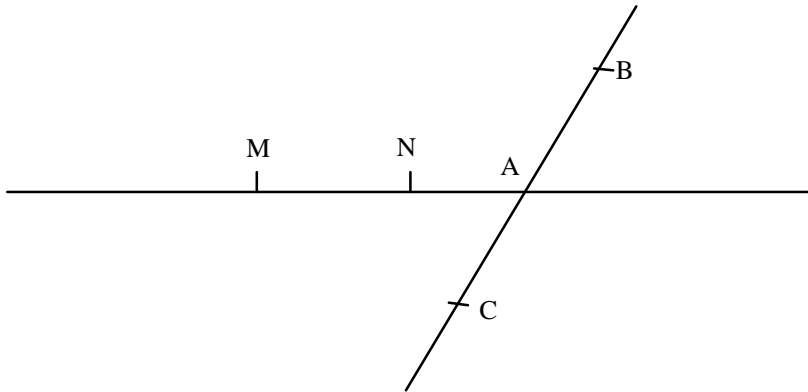
Après avoir observé la figure ci-dessous, recopie et complète les pointillés en utilisant ? ou ? .



- |            |            |            |
|------------|------------|------------|
| M ... [AC] | L... [CM]  | L ... (AM) |
| P... [AL]  | P ... (AL) | A ... [LC] |
| A... (ML)  | A... [AM]  |            |

**Exercice 3 :**

Observe cette figure et indique pour chaque affirmation si elle est vraie ou fausse.



- 1) Les points M, A, N sont alignés.
- 2) A est le point d'intersection des droites (NM) et (BC).
- 3) B est un point du segment [AC].
- 4) La droite (MN) peut aussi se noter (NA)