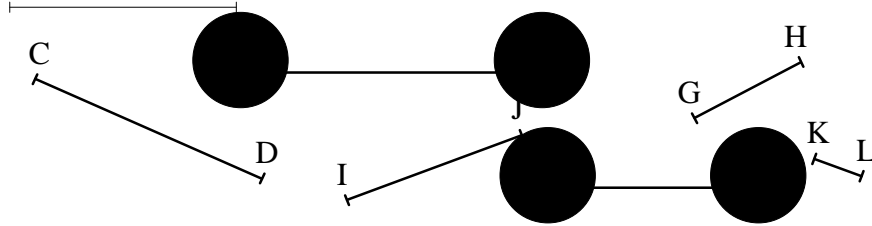


Segments et milieu de segments

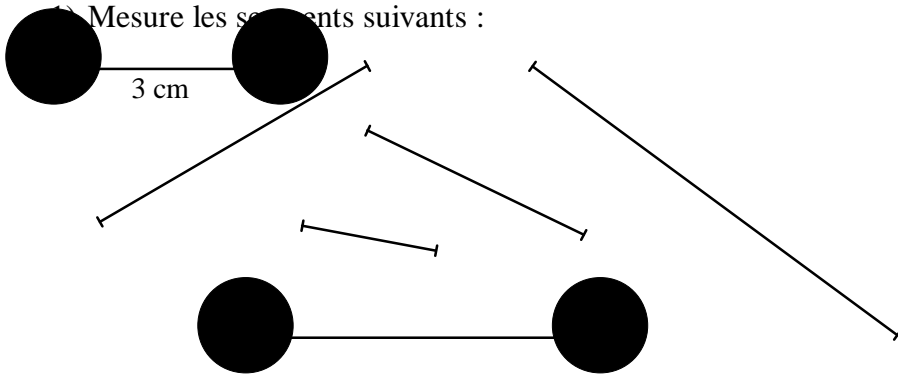
Exercice 1 : Fais comme dans l'exemple :

A B Le segment [AB] mesure 3 cm, on note $AB = 3 \text{ cm}$.



Exercice 2 :

Mesure les segments suivants :



2) Sachant que $AB = 2,5 \text{ cm}$; $CD = 3,2 \text{ cm}$; $EF = 4,1 \text{ cm}$; $GH = 4,7 \text{ cm}$; $IJ = 6 \text{ cm}$ et $KL = 1,8 \text{ cm}$, place les lettres aux extrémités des segments correspondants.

Exercice 3 : Fais comme dans l'exemple :

A I B I est le milieu du segment [AB].

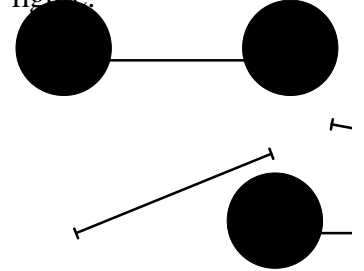
Q J R

S K T

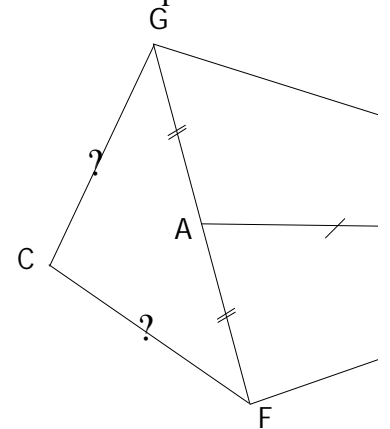
U L V

U L V

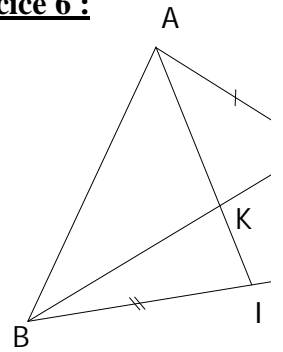
Exercice 4 : Place les milieux dans la figure.



Exercice 5 : Observe cette figure et fais deux phrases en utilisant le mot 'milieu'.



Exercice 6 :



1) Observe cette figure. Fais deux phrases en utilisant le mot 'milieu'.
2) Reproduis cette figure.