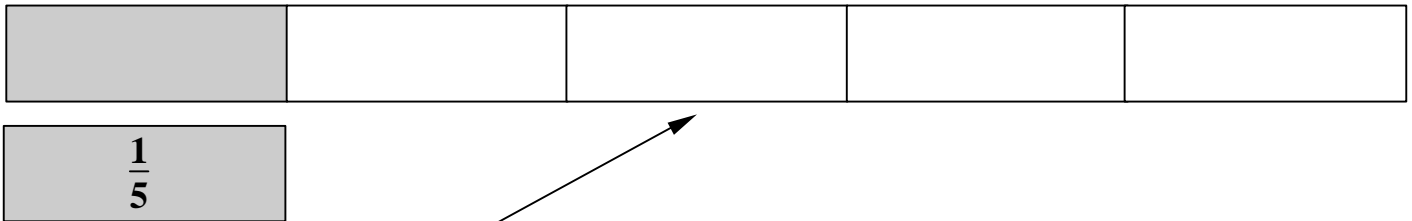



**Activité 4 :**

1. Voici les bandes obtenus dans l'activité 1 :

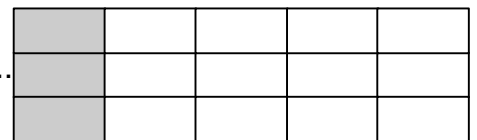


Si maintenant on double la bande, on obtient :



Quelle est alors la fraction obtenue ? .....

Si on triple la bande, quelle est alors la fraction obtenue ? .....



2. Donne une écriture décimale des quotients  $\frac{1}{5}$ ,  $\frac{2}{10}$ ,  $\frac{3}{15}$ ,  $\frac{15}{75}$

Que remarques-tu ?

3. Recopie et complète :

$\frac{1}{5} = \frac{2}{10}$	$\frac{3}{15} = \frac{15}{75}$	$\frac{1}{5} = \frac{3}{15}$
------------------------------	--------------------------------	------------------------------

$\frac{2}{10} = \frac{3}{15}$	$\frac{6}{8} = \frac{\dots}{\dots}$	$\frac{15}{20} = \frac{\dots}{\dots}$	$\frac{24}{32} = \frac{3}{4}$
-------------------------------	-------------------------------------	---------------------------------------	-------------------------------

On obtient des quotients égaux en .....