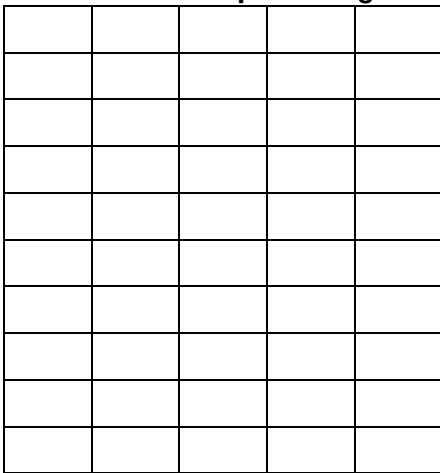


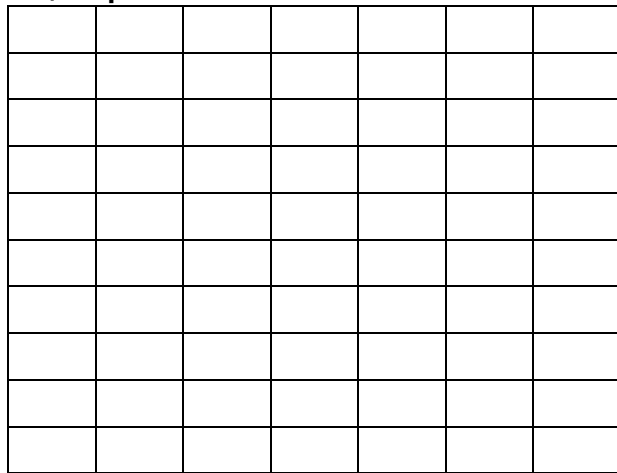
REPRESENTATION

					B	A	R	E1	E2	E3	N/3		
T	N	3	0	2	Représenter une fraction par un schéma								

A l'aide des quadrillages ci-dessous, représente les fractions données :

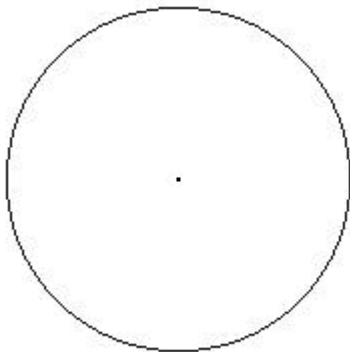


$$: \frac{37}{50}$$

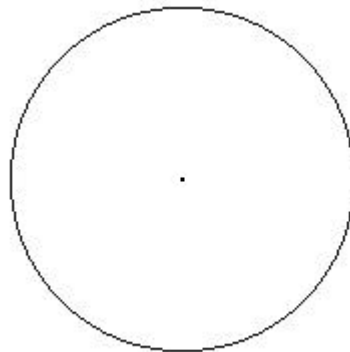


$$: \frac{7}{10}$$

A l'aide des cercles ci-dessous, représente les fractions données :




$$: \frac{4}{6}$$





$$: \frac{8}{10}$$

A l'aide des carrés ci-dessous, représente les fractions données :



$$: \frac{7}{4}$$



$$: \frac{13}{8}$$

