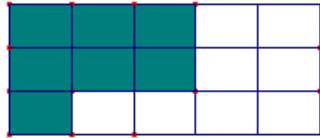



6°6. Interrogation écrite n°6. Le

I> Quelle est la fraction coloriée du rectangle ?



Réponse :

II> Colorier les  $\frac{3}{8}$  du carré :




III> La classe de 6<sup>ème</sup> A a 24 élèves.  
Trois huitièmes des élèves sont demi-pensionnaires. Combien sont-ils ?

Cinq douzièmes des élèves sont externes. Combien sont-ils ?

Les autres élèves sont internes. Quelle fraction de la classe représentent-ils ?

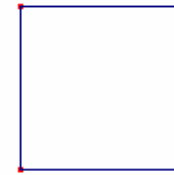
6°6. Interrogation écrite n°6. Le

I> Quelle est la fraction coloriée du rectangle ?



Réponse :

II> Colorier les  $\frac{5}{8}$  du carré :



III> La classe de 6<sup>ème</sup> B a 28 élèves.  
Un quart des élèves viennent au collège à pied. Combien sont-ils ?

Trois septièmes des élèves viennent à vélo. Combien sont-ils ?

Les autres élèves viennent en car. Quelle fraction de la classe représentent-ils ?