



Interrogation n°3

NOM : PRENOM : Classe :


Trace la perpendiculaire à d passant par le point A :



Trace la parallèle à d passant par le point A :



Cite la propriété qui correspond à la figure suivante :




Trace la figure correspondant à la propriété suivante :

Si deux droites sont perpendiculaires à une même droite, alors elles sont parallèles entre elles.

Définition d'un trapèze :

Quel est le nom de la figure ci-dessous :



Code la figure.
Définition :


Interrogation n°3

NOM : PRENOM : Classe :


Trace la perpendiculaire à d passant par le point A :



Trace la parallèle à d passant par le point A :



Cite la propriété qui correspond à la figure suivante :



Trace la figure correspondant à la propriété suivante :

Si deux droites sont perpendiculaires à une même droite, alors elles sont parallèles entre elles.

Définition d'un trapèze :

Quel est le nom de la figure ci-dessous :



Code la figure.
Définition :