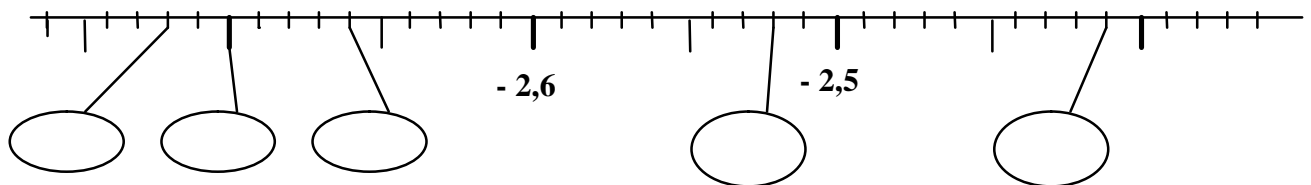
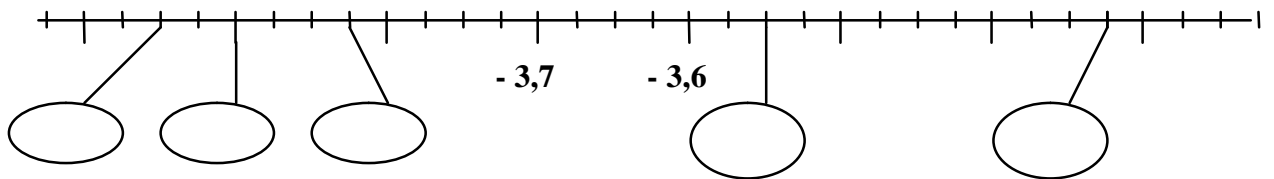
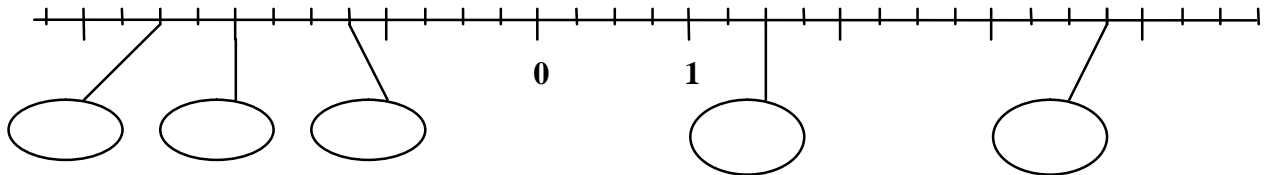


NOM Prénom :

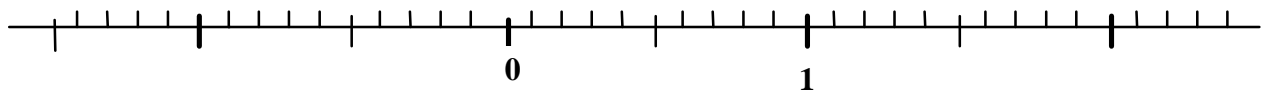
Date :

MATHEMATIQUES - nombres relatifs

✍ Complète les bulles avec les nombres relatifs qui conviennent :



✍ Place les nombres suivants sur la droite graduée ci-dessous : - 0,5 ; - 1,1 ; 0,75 ; - 1,35 ; - 0,2



✍ Range les nombres relatifs suivants dans l'ordre croissant :

2,8 ; 3,3 ; - 2,15 ; 1,25 ; 1,4 ; - 2,35 ; - 2,2 ; - 3 ; 0 ; 1,32 ; - 2

..... <..... <.....

✍ Complète par 2 nombres relatifs qui conviennent :

2,2 < < < 2,3

- 2,5 < < < - 2,3

- 1 < < < 0

- 2,35 < < < - 2,34

✍ Quels sont les nombres **entiers** relatifs compris entre - 7 et + 2 (non compris) ?

.....

✍ Quels sont les nombres relatifs **ayant une décimale** compris entre - 3,25 et - 2,05 ?

.....