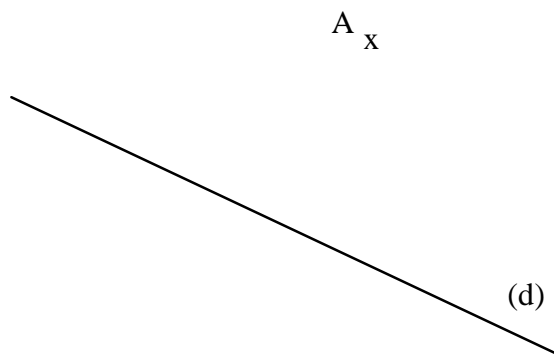
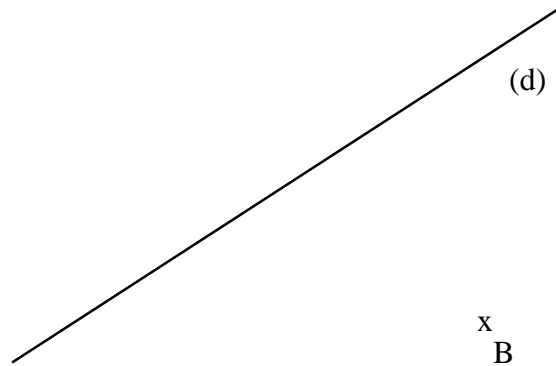


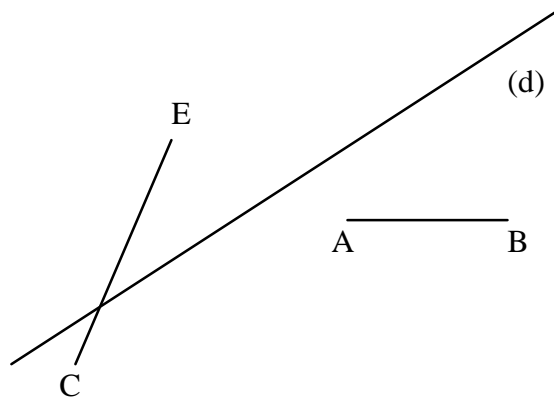
Dessine le symétrique S du point A par rapport à la droite (d) (Equerre et règle)



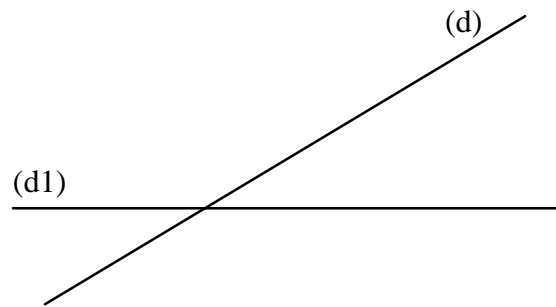
Dessine le symétrique T du point B par rapport à la droite (d) (Compas)



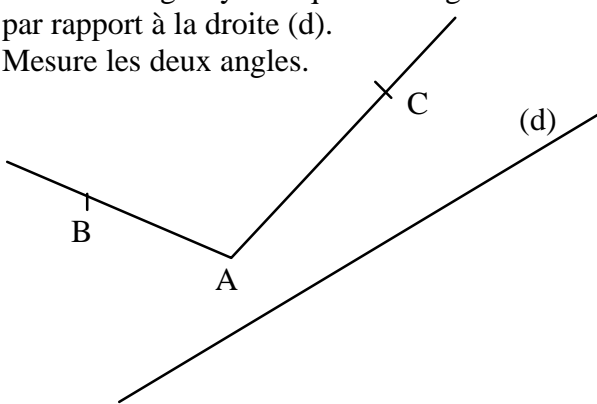
Dessine les segments symétriques de [AB] et [CE] par rapport à la droite (d)



Dessine la droite symétrique de la droite (d₁) par rapport à la droite (d).



Dessine l'angle symétrique de l'angle \widehat{BAC} par rapport à la droite (d).
Mesure les deux angles.



Dessine l'angle symétrique de l'angle \widehat{BAC} par rapport à la droite (d).
Mesure les deux angles.

