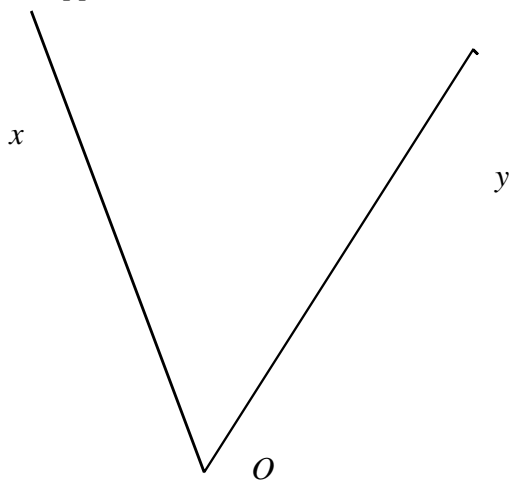


# Quatre constructions de la bissectrice

Rédiger les programmes de construction de la bissectrice dans chacun des cas suivants.

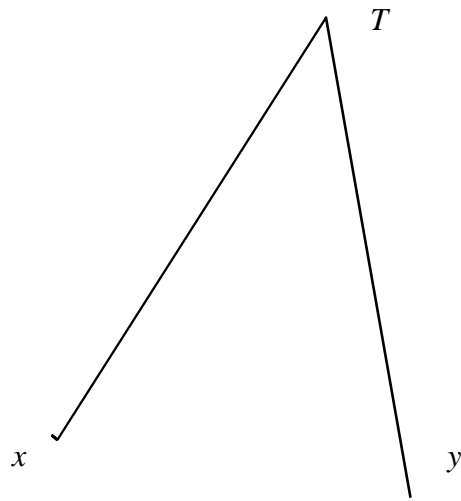
Avec le rapporteur



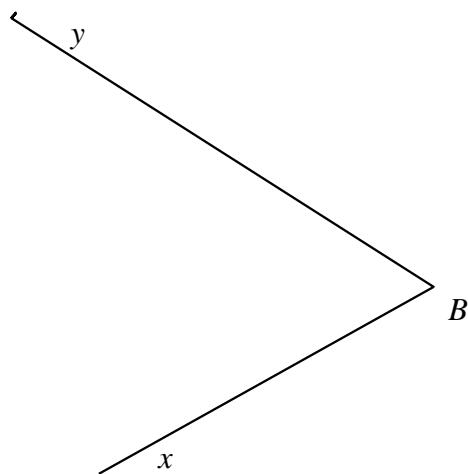
**Programme :**

Mesurer  $\widehat{xOy}$   
Placer A tel que  $\widehat{xOA} = \widehat{AOy} = \frac{1}{2}\widehat{xOy}$   
Tracer (OA)

Avec la règle graduée



Avec le compas



Avec l'équerre graduée

