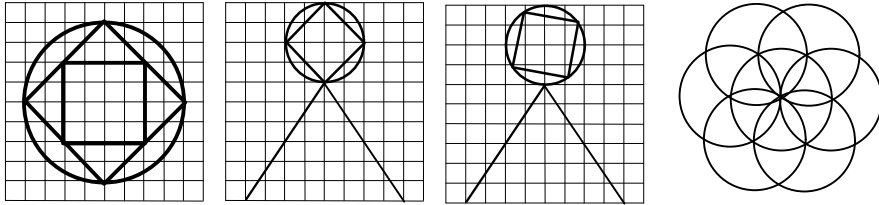


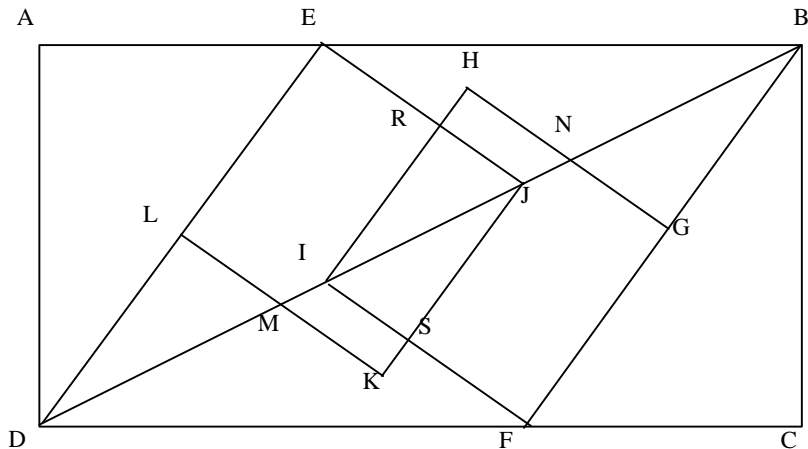
Exercice _____ :

Reproduis chacun des dessins suivants ; puis pour chacun d'eux, indique combien il possède d'axes de symétrie et trace-les :



Exercice _____ :

Dans cette figure, cite deux carrés, un losange, trois triangles rectangles et deux rectangles.



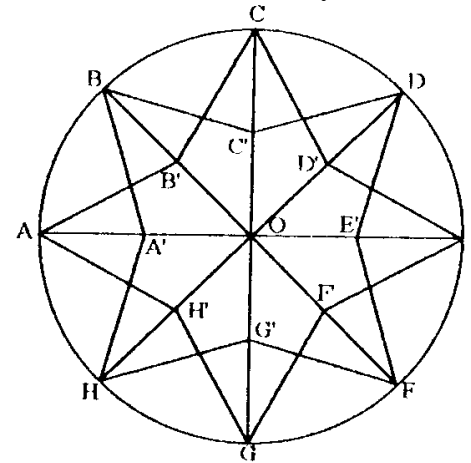
Exercice _____ :

MATH

Sur chacune des lettres ci-dessus, trace le ou les axes de symétrie.

Exercice _____ :

1) Cite tous les axes de symétrie de cette figure.



2) Tu écriras tes résultats dans le tableau ci dessous :

- a) Quels sont les symétriques de A, de B', de [AB'], de A', de H, de [H'A] par rapport à la droite (OA).
 b) même question par rapport à la droite (OH).

	A	B'	[AB']	A'	H	[A'H]
/ (OA)						
/ (OH)						