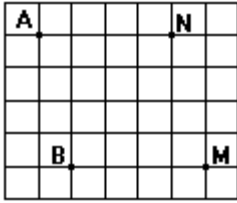


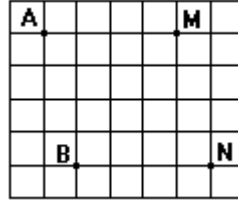
## Les vecteurs

Dans chacun des cas ci-dessous, entourer la bonne réponse.

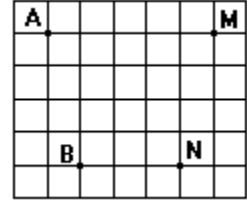
1°) Pour chacune des figures ci-dessous, l'égalité  $\vec{AB} = \vec{MN}$  est-elle vraie ?



OUI      NON

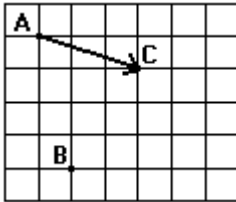


OUI      NON

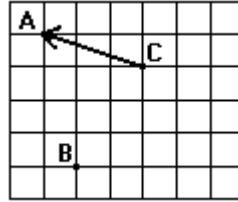


OUI      NON

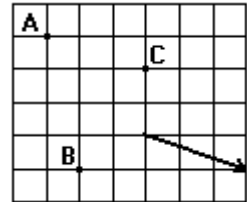
2°) Le vecteur tracé représente-t-il  $\vec{AB} + \vec{BC}$  ?



OUI      NON

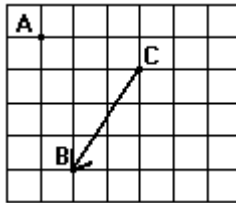


OUI      NON

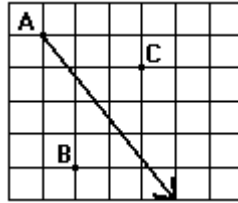


OUI      NON

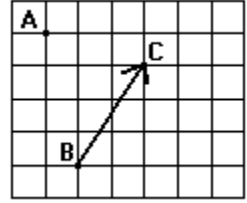
3°) Le vecteur tracé représente-t-il  $\vec{AB} + \vec{AC}$  ?



OUI      NON

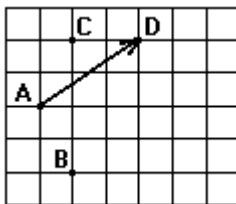


OUI      NON

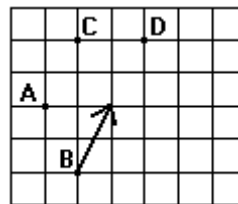


OUI      NON

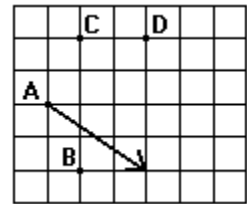
4°) Le vecteur tracé représente-t-il  $\vec{AB} + \vec{CD}$  ?



OUI      NON



OUI      NON



OUI      NON