

*La clarté des raisonnements et la qualité de la rédaction interviendront pour une part importante dans l'appréciation des copies.
L'usage des instruments de calcul est autorisé. Tout échange de matériel est interdit.*

→ Sujet à traiter par les candidats à un BEP seul, en double évaluation BEP/CAP (associés) ou CAP/BEP (semi-associés).

→ Les candidats répondront sur la copie. Les annexes éventuelles seront à compléter par les candidats puis agrafées dans la copie anonymée.

LISTES DES SPECIALITES CONCERNEES :

BEP Electrotechnique
CAP Electrotechnique
 BEP Métiers de l'électronique
 BEP Industries graphiques
 BEP Installateur conseil en équipements du foyer
 BEP Installateur conseil en équipement électroménager
 BEP Maintenance des équipements de commande des systèmes industriels
 BEP Opticien de précision
 BEP Optique lunetterie
CAP Monteur en optique lunetterie

| | | | | |
|--|--|------------------------|--|---------------------------------------|
| Groupement inter académique II | | Session 2002 | Facultatif : code 62YD02 | |
| Examen et spécialité BEP - CAP secteur 3 : METIERS DE L'ELECTRICITE, ELECTRONIQUE, DE L'AUDIOVISUEL, DES INDUSTRIES GRAPHIQUES | | | | |
| Intitulé de l'épreuve MATHEMATIQUES - SCIENCES PHYSIQUES | | | | |
| Type SUJET | Facultatif : date et heure Lundi 10 juin 2002 | Durée 2H | Coefficient Selon spécialité | N° de page sur total 1 / 12 |

MATHEMATIQUES (10 points)

Exercice 1. Trigonométrie : (BEP : 4 points / CAP : 6 points)

Dans cet exercice nous étudierons le déplacement d'un piston actionné par une roue.

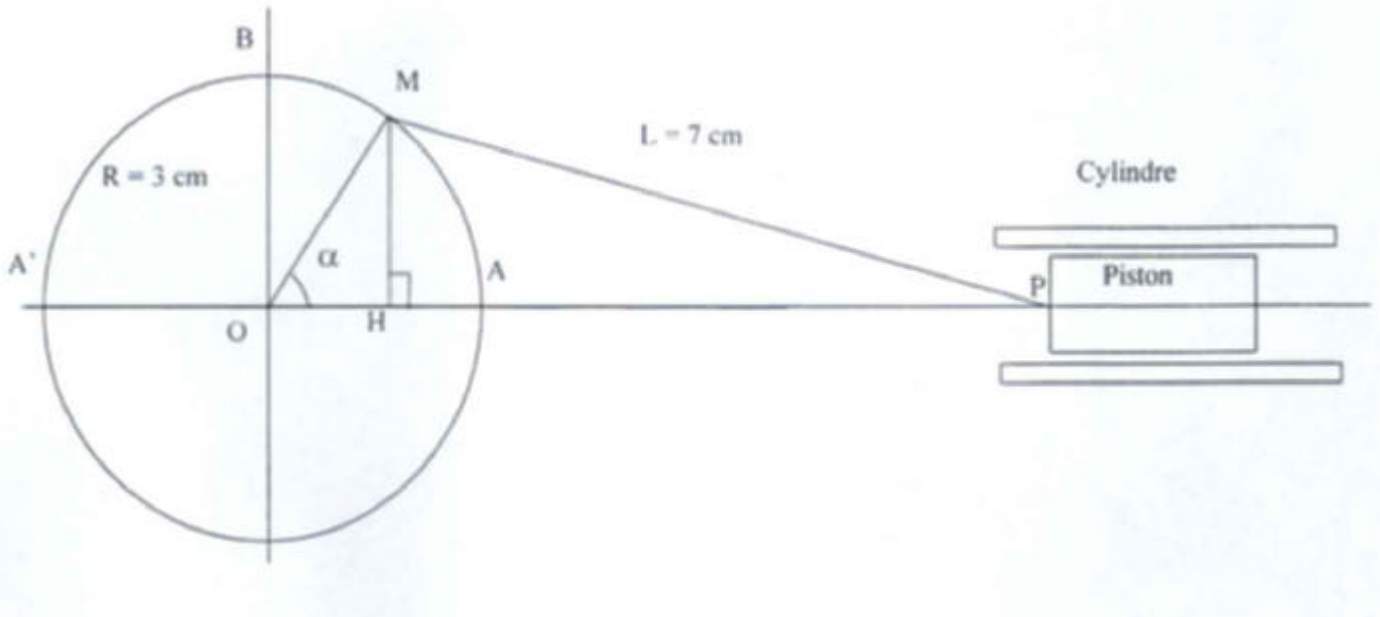
La roue a un mouvement circulaire et le piston a un mouvement de translation dans un cylindre. La liaison entre la roue et le piston est assurée par une bielle.

Le rayon du cercle est de 3 cm.

La longueur MP de la bielle est de 7 cm.

$(\vec{OA}; \vec{OM})$ est un angle orienté de mesure α suivant le sens trigonométrique direct.

Le schéma n'est pas à l'échelle.



Les longueurs seront exprimés en cm et arrondies au centième.

1°) Calculer la longueur OP dans les cas particuliers suivants :

- a) le point M est en A ;
- b) le point M est en B ;
- c) le point M est en A'.

2°) Quelle est la course du piston, c'est à dire la longueur du segment décrit par le point P.

3°) lorsque la position du point M est telle que $\alpha = 60^\circ$:

- a) calculer OH ;
- b) calculer HM puis HP ;
- c) en déduire OP.

4°) La formule exprimant la longueur OP en fonction de α est :

$$\mathbf{OP = 3 \cos\alpha + \sqrt{49 - 9 \sin^2\alpha}}$$

Calculer OP:

- a) pour $\alpha = 120^\circ$;
- b) pour $\alpha = 150^\circ$.

| | | | | |
|--|--|------------------------------------|--|---------------------------------------|
| Groupement inter académique II | Session 2002 | Facultatif : code 62YD02 | | |
| Examen et spécialité BEP - CAP secteur 3 : | | | | |
| METIERS DE L'ELECTRICITE, ELECTRONIQUE, DE L'AUDIOVISUEL, DES INDUSTRIES GRAPHIQUES | | | | |
| Intitulé de l'épreuve MATHEMATIQUES - SCIENCES PHYSIQUES | | | | |
| Type SUIJET | Facultatif : date et heure Lundi 10 juin 2002 | Durée 2H | Coefficient Selon spécialité | N° de page sur total 2 / 12 |

Exercice 2. Équations ; Fonctions : (BEP : 3 points / CAP : 4 points)

La puissance dissipée par effet Joule dans une résistance est donnée par la relation :

$$P = RI^2$$

Partie A :

- calculer la puissance dissipée dans une résistance de 10 ohms, traversée par un courant d'intensité 2 ampères.
- Calculer la résistance d'un conducteur parcouru par un courant d'intensité 2,2 ampères, sachant que la puissance dissipée est de 48,4 watts.
- Calculer l'intensité du courant parcourant une résistance de 10 ohms, lorsque la puissance dissipée est de 60 watts ;

(On arrondira les résultats au centième)

Partie B :

Soit $R = 10$ ohms.

x désignant l'intensité du courant exprimée en ampères.

On considère la fonction f définie sur l'intervalle $[0 ; 3]$ par $f(x) = 10 x^2$.

- Compléter le **tableau de valeurs de l'annexe 1**.
- On veut représenter graphiquement la fonction f sur l'intervalle $[0 ; 3]$:
 - Graduer les axes du repère de **l'annexe 1** en prenant pour unités :
 - Sur l'axe des abscisses : 5 cm pour 1 unité
 - Sur l'axe des ordonnées : 1 cm pour 10 unités
 - Tracer dans ce repère, la courbe représentative de f sur ce même intervalle.
 - En utilisant cette courbe, trouver graphiquement la valeur x pour laquelle $f(x) = 60$.

| | | | | |
|--|--|------------------------|--|---------------------------------------|
| Groupement inter académique II | | Session 2002 | Facultatif : code 62YD02 | |
| Examen et spécialité BEP - CAP secteur 3 : METIERS DE L'ELECTRICITE, ELECTRONIQUE, DE L'AUDIOVISUEL, DES INDUSTRIES GRAPHIQUES | | | | |
| Intitulé de l'épreuve MATHEMATIQUES - SCIENCES PHYSIQUES | | | | |
| Type SUIJET | Facultatif : date et heure Lundi 10 juin 2002 | Durée 2H | Coefficient Selon spécialité | N° de page sur total 3 / 12 |

Exercice 3. Statistiques : (BEP seulement: 4 points)

Partie A :

Pendant une séance de travaux pratiques, 36 élèves ont effectué la mesure de résistances de valeur nominale 33 Ω .

Le relevé des résultats est le suivant :

| | | | | | |
|---------------|---------------|---------------|---------------|---------------|---------------|
| 29,1 Ω | 30,5 Ω | 27 Ω | 38 Ω | 31 Ω | 33,7 Ω |
| 34,5 Ω | 32,7 Ω | 34,8 Ω | 31,7 Ω | 28,9 Ω | 34 Ω |
| 32,8 Ω | 33,7 Ω | 30,1 Ω | 30,2 Ω | 32,8 Ω | 33,4 Ω |
| 30,3 Ω | 32,4 Ω | 34,1 Ω | 29,4 Ω | 37 Ω | 33,6 Ω |
| 28,8 Ω | 32 Ω | 32,1 Ω | 30,7 Ω | 30 Ω | 32,4 Ω |
| 38,9 Ω | 27,8 Ω | 32,8 Ω | 38,2 Ω | 35 Ω | 28 Ω |

Regrouper dans le **tableau A** de **l'annexe 2**, page 6/12, les effectifs pour chaque classe de valeur de résistance.

Partie B :

Les élèves ont également effectué la mesure de résistances de valeurs nominale 47 Ω .
Les mesures obtenues sont regroupées dans le tableau B de l'annexe 2 page 6/12.

- 1°) Compléter le tableau B ; Les valeurs des fréquences en pourcentage seront arrondies à 10^{-2} .
- 2°) Déterminer la valeur moyenne des ces résistances arrondies à 10^{-1} .

Nota : pour la question 2°), la méthode est au choix du candidat (application du formulaire ou utilisation des fonctions statistiques de la calculatrice)

- 3°) tracer **l'histogramme des effectifs** dans le repère de **l'annexe 3**.

| | | | | | |
|--|--|------------------------|--|---------------------------------------|--|
| Groupement inter académique II | | Session 2002 | Facultatif : code 62YD02 | | |
| Examen et spécialité BEP - CAP secteur 3 : METIERS DE L'ELECTRICITE, ELECTRONIQUE, DE L'AUDIOVISUEL, DES INDUSTRIES GRAPHIQUES | | | | | |
| Intitulé de l'épreuve MATHEMATIQUES - SCIENCES PHYSIQUES | | | | | |
| Type SUIJET | Facultatif : date et heure Lundi 10 juin 2002 | Durée 2H | Coefficient Selon spécialité | N° de page sur total 4 / 12 | |

FEUILLE À RENDRE AVEC LA COPIE ANNEXE 1


Mathématiques

Exercice 2 : partie B

1°) Tableau de valeurs

| | | | | | | |
|------|---|---|-----|---|-----|---|
| x | 0 | 1 | 1,5 | 2 | 2,5 | 3 |
| f(x) | | | | | | |

2°) courbe représentative de la fonction f:



| | | | | |
|--|--|------------------------|--|---------------------------------------|
| Groupement inter académique II | | Session 2002 | Facultatif : code 62YD02 | |
| Examen et spécialité BEP - CAP secteur 3 : METIERS DE L'ELECTRICITE, ELECTRONIQUE, DE L'AUDIOVISUEL, DES INDUSTRIES GRAPHIQUES | | | | |
| Intitulé de l'épreuve MATHEMATIQUES - SCIENCES PHYSIQUES | | | | |
| Type SUJET | Facultatif : date et heure Lundi 10 juin 2002 | Durée 2H | Coefficient Selon spécialité | N° de page sur total 5 / 12 |

FEUILLE À RENDRE AVEC LA COPIE

ANNEXE 2

MATHEMATIQUES

Exercice 3 : partie A

Tableau A

| Résistance en Ω | Effectif n_i |
|---------------------------|-------------------|
| [27 ; 29 [| |
| [29 ; 31 [| |
| [31 ; 33 [| |
| [33 ; 35 [| |
| [35 ; 37 [| |
| [37 ; 39 [| |
| N = 36 | |

Exercice 3 : partie A

Tableau B

| Résistance en Ω | Effectif n_i | Centre x_i | $n_i \times x_i$ | Fréquence f_i en % |
|---------------------------|-------------------|-----------------|------------------|-------------------------|
| [42 ; 44 [| 6 | | | |
| [44 ; 46 [| 9 | | | |
| [46 ; 48 [| 12 | | | |
| [48 ; 50 [| 7 | | | |
| [50 ; 52 [| 2 | | | |
| N = 36 | | | | |

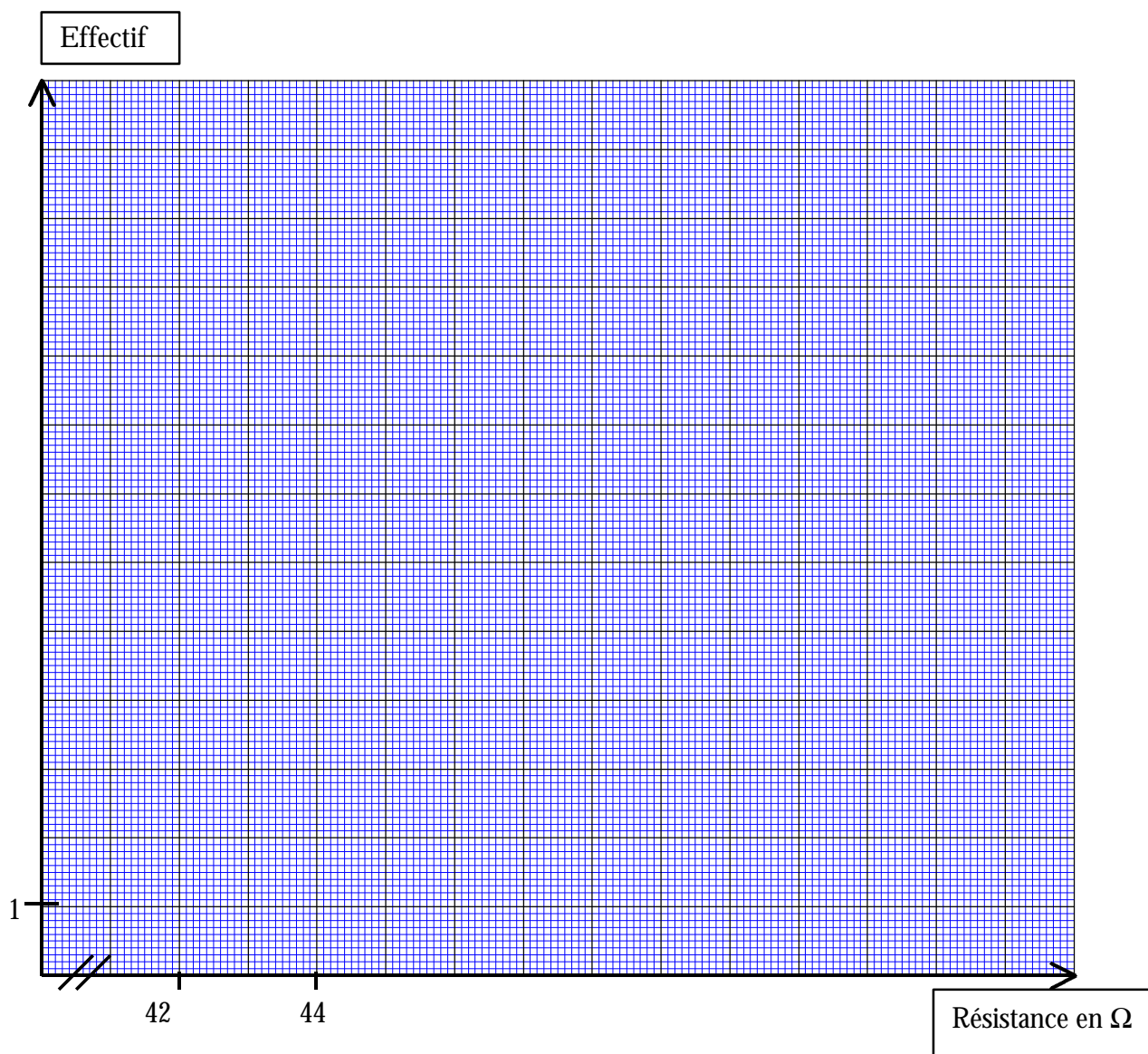
| | | | | | |
|--|--|------------------------|--|---------------------------------------|--|
| Groupement inter académique II | | Session 2002 | Facultatif : code 62YD02 | | |
| Examen et spécialité BEP - CAP secteur 3 : METIERS DE L'ELECTRICITE, ELECTRONIQUE, DE L'AUDIOVISUEL, DES INDUSTRIES GRAPHIQUES | | | | | |
| Intitulé de l'épreuve MATHEMATIQUES - SCIENCES PHYSIQUES | | | | | |
| Type SUIJET | Facultatif : date et heure Lundi 10 juin 2002 | Durée 2H | Coefficient Selon spécialité | N° de page sur total 6 / 12 | |

FEUILLE À RENDRE AVEC LA COPIE ANNEXE 3

Mathématiques

Exercice 3 : partie B

Histogramme des effectifs



| | | | | |
|--|---|------------------------|--|---------------------------------------|
| Groupement inter académique II | | Session 2002 | Facultatif : code 62YD02 | |
| Examen et spécialité BEP - CAP secteur 3 : METIERS DE L'ELECTRICITE, ELECTRONIQUE, DE L'AUDIOVISUEL, DES INDUSTRIES GRAPHIQUES | | | | |
| Intitulé de l'épreuve MATHEMATIQUES - SCIENCES PHYSIQUES | | | | |
| Type SUJET | Facultatif : date et heure Lundi 10 juin 2002 | Durée 2H | Coefficient Selon spécialité | N° de page sur total 7 / 12 |

SCIENCES PHYSIQUES (10 points)

Exercice 1. Chimie : (BEP : 3,5 points / CAP : 6 points)

On donne :

$$M(\text{Fe}) = 56 \text{ g/mol}$$

$$M(\text{O}) = 16 \text{ g/mol}$$

$$M(\text{H}) = 1 \text{ g/mol}$$

Pouvoir oxydant
croissant de l'ion



Fe^{2+}/Fe

Zn^{2+}/Zn

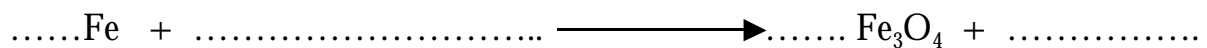


Pouvoir réducteur
croissant du métal

Partie A :

Dans un four chauffé à 500°C, de la paille de fer réagit avec de la vapeur d'eau. Il se produit de l'oxyde magnétique, de formule Fe_3O_4 , et un dégagement de dihydrogène.

1) Réécrire et compléter l'équation bilan de la réaction mise en jeu :



2) Calculer la masse molaire de l'oxyde magnétique Fe_3O_4 .

3) A la fin de la réaction, il s'est formé 46,4 g d'oxyde magnétique Fe_3O_4 . calculer le nombre de moles correspondantes.

4) Calculer le nombre de moles de fer ayant réagi ;

5) Calculer la masse de fer correspondante.

Partie B :

Sur la partie immergée des coques en acier des bateaux, on place des blocs de zinc. C'est le principe de l'anode sacrificielle (dite anode soluble) ; il se forme une pile.

1. D'après la classification électrochimique des métaux, dire quel est le métal qui va s'oxyder.
2. Comment s'appelle la réaction qui intervient dans ce phénomène ?
3. Quels sont dans cette pile :
 - ◆ l'électrode positive ?
 - ◆ l'électrode négative ?
 - ◆ l'électrolyte ?
4. Dans quel but place-t-on ces blocs de zinc sur les coques en acier des bateaux ?

| | | | | |
|--|--|------------------------|--|---------------------------------------|
| Groupement inter académique II | | Session 2002 | Facultatif : code 62YD02 | |
| Examen et spécialité BEP - CAP secteur 3 : METIERS DE L'ELECTRICITE, ELECTRONIQUE, DE L'AUDIOVISUEL, DES INDUSTRIES GRAPHIQUES | | | | |
| Intitulé de l'épreuve MATHEMATIQUES - SCIENCES PHYSIQUES | | | | |
| Type SUIJET | Facultatif : date et heure Lundi 10 juin 2002 | Durée 2H | Coefficient Selon spécialité | N° de page sur total 8 / 12 |

Exercice 2 : (BEP : 4 points / CAP : 4 points)

On se propose de calculer le rendement d'un chauffe-eau électrique à accumulation réglé pour fournir de l'eau chaude à 60°C.

Les indications données par le constructeur sont :

| | | |
|---------------------------|---|--------|
| Tension de fonctionnement | : | 230 V |
| Puissance absorbée | : | 3,3 kW |
| Contenance | : | 220 L |

Partie A :

On fait couler 40 L d'eau de ce chauffe-eau, ce qui entraîne l'arrivée de 40 L d'eau froide (à 18°C) dans le chauffe-eau.

La résistance chauffante du chauffe-eau se met alors à fonctionner pendant 45 minutes puis s'arrête.

- 1) Calculer l'intensité du courant, arrondie à 0,1 A, qui traverse la résistance chauffante pendant le temps de fonctionnement.
- 2) Calculer l'énergie électrique E_a , exprimée en Joules, absorbée par le chauffe-eau pendant ce temps.
- 3) L'énergie utile E_u sert à élever de 18°C à 60°C la température de ces 40 L d'eau. Calculer cette énergie utile.
(données : capacité thermique massique de l'eau $C = 4180 \text{ J/}^\circ\text{C} \times \text{kg}$)
- 4) En déduire le rendement énergétique du chauffe-eau dans ces conditions.

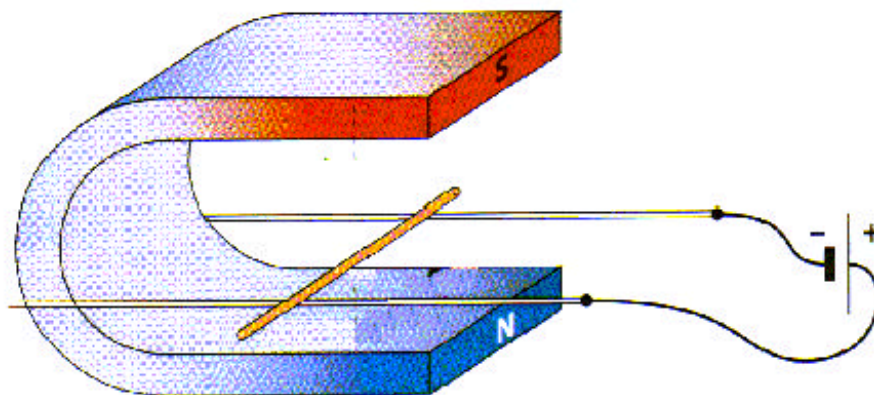
Partie B :

Les 40 L d'eau à 60°C extraits du chauffe-eau sont mélangés dans une baignoire avec 100 L d'eau à 18°C. calculer la température finale de l'eau du bain en supposant qu'il n'y a pas de pertes calorifiques.

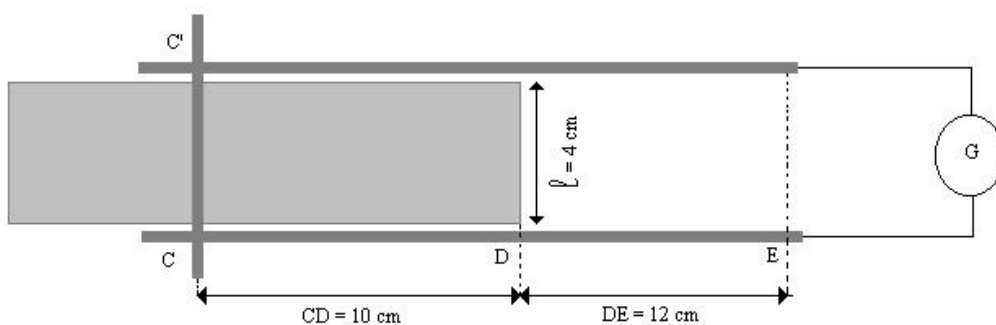
| | | | | |
|--|--|------------------------|--|---------------------------------------|
| Groupement inter académique II | | Session 2002 | Facultatif : code 62YD02 | |
| Examen et spécialité BEP - CAP secteur 3 : METIERS DE L'ELECTRICITE, ELECTRONIQUE, DE L'AUDIOVISUEL, DES INDUSTRIES GRAPHIQUES | | | | |
| Intitulé de l'épreuve MATHEMATIQUES - SCIENCES PHYSIQUES | | | | |
| Type SUIJET | Facultatif : date et heure Lundi 10 juin 2002 | Durée 2H | Coefficient Selon spécialité | N° de page sur total 9 / 12 |

Exercice 3A. Magnétisme : (**BEP seulement : 2,5 points**)

On réalise l'expérience suivante : une tige de cuivre est posée sur deux rails horizontaux dans l'entrefer d'un aimant en U.



- 1) L'alimentation stabilisée fait passer un courant électrique d'intensité I égale à 4,2 A dans le circuit réalisé. Que se passe-t-il ?
- 2) Le champ magnétique créé par l'aimant peut être considéré comme uniforme et limité au volume compris entre ses branches (*zone grisée sur le schéma ci-dessous*)



Vue de dessus, la position de la tige CC', au départ est représentée ci-contre.

La valeur du champ magnétique de l'aimant est :

$$B = 0,2 \text{ T}$$

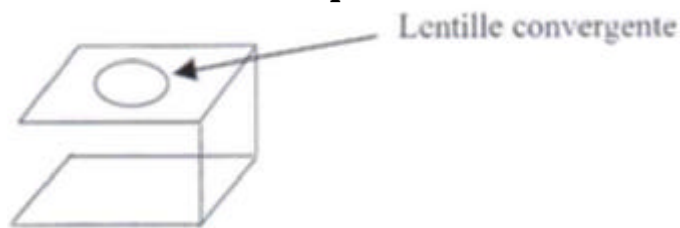
- a) Quel doit être dans ce cas, le sens de branchement du générateur G pour que la barre se déplace vers la droite, de C vers E (indiquer les polarités sur le schéma de l'annexe page 12/12) ?
- b) Sur ce même schéma, représenter la force électromagnétique qui s'exerce sur la tige. Calculer son intensité.

On rappelle : $F = B \times I \times l$

- c) Quelle est la nature du mouvement de la barre pendant son déplacement de C à D ? de D à E ?
- d) Quelle est la valeur du travail w de la force électromagnétique lors du déplacement de C à D ? de D à E ?

| | | | | |
|--|--|------------------------|--|--|
| Groupement inter académique II | | Session 2002 | Facultatif : code 62YD02 | |
| Examen et spécialité BEP - CAP secteur 3 : METIERS DE L'ELECTRICITE, ELECTRONIQUE, DE L'AUDIOVISUEL, DES INDUSTRIES GRAPHIQUES | | | | |
| Intitulé de l'épreuve MATHEMATIQUES - SCIENCES PHYSIQUES | | | | |
| Type SUJET | Facultatif : date et heure Lundi 10 juin 2002 | Durée 2H | Coefficient Selon spécialité | N° de page sur total 10 / 12 |

Exercice 3B. Optique : (**BEP seulement : 2,5 points**)



Le compte fils schématisé ci-dessus est un objet utilisé en imprimerie. Il permet la visualisation de la trame d'un document en grossissant celui-ci. Il est constitué d'une lentille simple convergente.

Deux utilisations possibles d'une lentille convergente sont étudiées ci-dessous.

Dans tout l'exercice, on prendra AB comme objet et A'B' son image par la lentille de centre optique O et de foyers F et F' situés à 3 cm.

PARTIE A

L'objet à visualiser est placé à gauche de F.

1. Sur l'annexe page 12/12, construire l'image A'B' de l'objet AB à travers la lentille.
2. Comparer la taille de l'objet AB et celle de l'image A'B'.

PARTIE A

L'objet est placé entre F et O.

Un objet droit AB de 0,5 cm de hauteur (A est sur l'axe optique) est situé à 2,5 cm de la lentille convergente. La distance focale de celle-ci est $f' = 3$ cm.

1. Donner les valeurs de \overline{OA} , $\overline{OF'}$ et \overline{AB} .
2. En utilisant les formules de conjugaison des lentilles, calculer $\overline{OA'}$. Indiquer en le justifiant, si l'image est réelle ou virtuelle.
3. Sachant que dans ce cas $\overline{A'B'} = 3$ cm, indiquer lequel des deux cas étudiés correspond à la modélisation d'un compte fils. Justifier.

On donne :

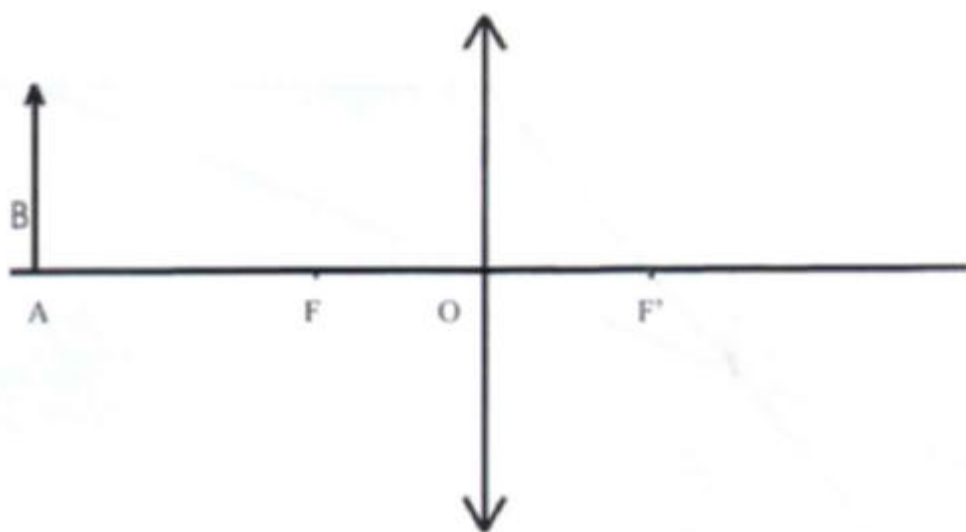
Formule de conjugaison des lentilles :
$$\frac{1}{\overline{OA'}} - \frac{1}{\overline{OA}} = \frac{1}{\overline{OF'}}$$

| | | | | |
|--|--|------------------------|--|--|
| Groupement inter académique II | | Session 2002 | Facultatif : code 62YD02 | |
| Examen et spécialité BEP - CAP secteur 3 : METIERS DE L'ELECTRICITE, ELECTRONIQUE, DE L'AUDIOVISUEL, DES INDUSTRIES GRAPHIQUES | | | | |
| Intitulé de l'épreuve MATHEMATIQUES - SCIENCES PHYSIQUES | | | | |
| Type SUJET | Facultatif : date et heure Lundi 10 juin 2002 | Durée 2H | Coefficient Selon spécialité | N° de page sur total 11 / 12 |

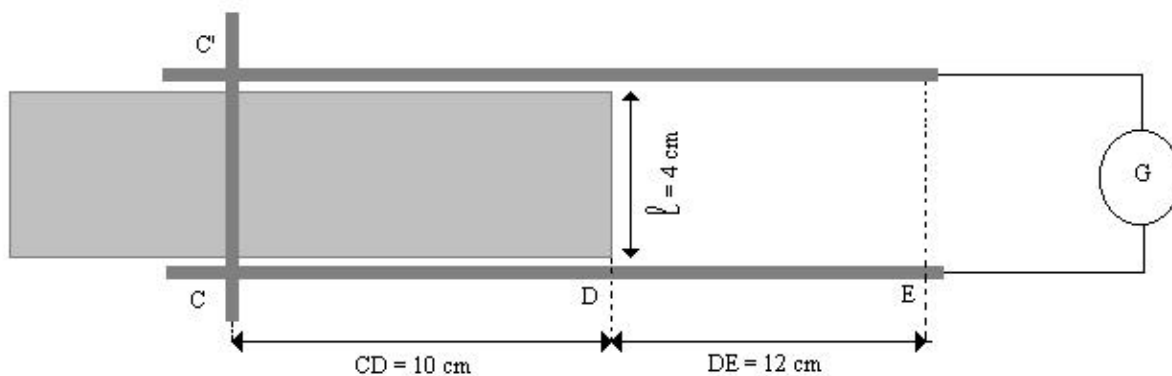
FEUILLE À RENDRE AVEC LA COPIE ANNEXE

Sciences Physiques

Exercice 3B. Optique



Exercice 3A. Magnétisme



| | | | | |
|--|--|-----------------------------|--|--|
| Groupement inter académique II | Session 2002 | Facultatif : code 62YD02 | | |
| Examen et spécialité BEP - CAP secteur 3 : METIERS DE L'ELECTRICITE, ELECTRONIQUE, DE L'AUDIOVISUEL, DES INDUSTRIES GRAPHIQUES | | | | |
| Intitulé de l'épreuve MATHEMATIQUES - SCIENCES PHYSIQUES | | | | |
| Type SUIJET | Facultatif : date et heure Lundi 10 juin 2002 | Durée 2H | Coefficient Selon spécialité | N° de page sur total 12 / 12 |