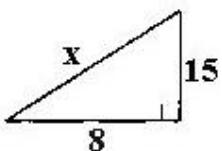
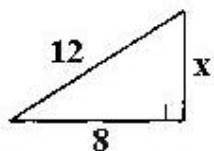
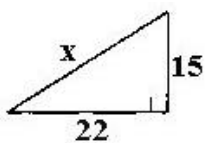


## Théorème de Pythagore et sa réciproque : Exercices

1°/ Calculer la longueur inconnue dans chacun des triangles rectangles suivants :



2°/ Les triangles suivants sont-ils rectangles ?

