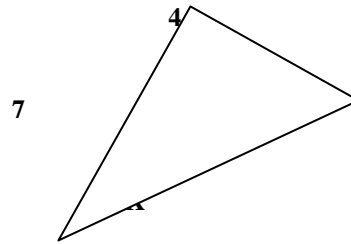
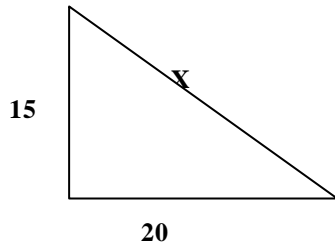


Nom :

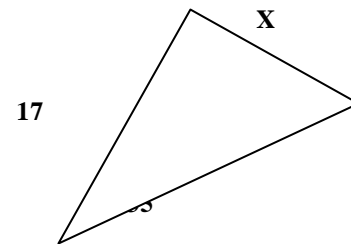
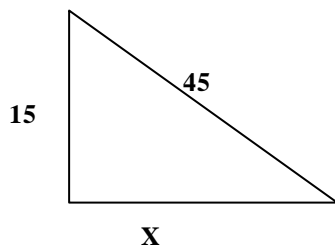
Prénom :

Date :

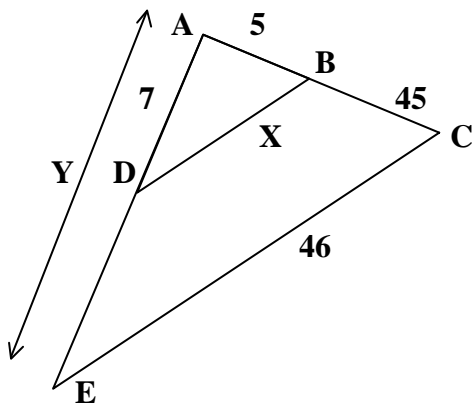
① Calculer la longueur inconnue : → PYTHAGORE



② Calculer la longueur inconnue : → PYTHAGORE



③ Calculer les longueurs X et Y inconnues : → THALES



④ Calculer les valeurs d'angles et les longueurs inconnues : → TRIGONOMETRIE

